

Mathematics Class One

Student’s Name: _____ Roll No: _____

School Name: _____

نوٹ: سوالات پرچے میں دی گئی جگہ پر ہی حل کریں۔ اضافی کاپی ہرگز مہیا نہیں کی جائے گی۔ معروضی میں کاٹ کر یا مٹا کر لکھے گئے ہوئے جوابات غلط تصور ہوں گے۔

Total Marks	Obtained Marks	Grade	Remarks	Examiner Sign
100				

Q.1: Write the counting from 10 to 20: (10)


Q.2: Add the following (Any two): (10)


(i) 3
+ 4


(ii) 5
+ 8


(iii) 4
+ 5


Q.3: (i) Count the thing and then subtract it: (10)





















(ii):
















Q.4: Subtract the following (Any two) (10)


(i) 10
- 2

(ii) 9
- 6

(iii) 6
- 6

Q.4: Trick (✓) the thing which is shorter: (5)

(i)




(ii)



Q.4: Trick (✓) the thing which is taller: (5)

(i)



(ii)

