

وقت 2:00 گھنٹے

امتحان: سیکنڈ ٹرم (رائٹ وے سیریز)

پرچہ اُردو۔ پلے گروپ

نام طالب علم:

رول نمبر:

نام اسکول:

نوٹ: سوالات پرچے میں دی گئی جگہ پر ہی حل کریں۔ اضافی کاپی ہرگز مہیا نہیں کی جائے گی۔ معروضی میں کاٹ کر یا مٹا کر لکھے گئے جوابات غلط تصور ہوں گے۔

کل نمبر	حاصل کردہ نمبر	گریڈ	نتیجہ	دستخط ممتحن
50				

سوال نمبر: ۱۔ پڑھائی۔

10

سوال نمبر: ۲۔ ”د“ سے ”ص“ تک حروف تہجی لکھیں۔

10

سوال نمبر: ۳ تصویر دیکھ کر درست حرف کے گرد دائرہ لگائیں۔

10



ڈ ڈ



ر ر



ز د



ذ ر



د ر

سوال نمبر: ۴ حروف کو درست تصاویر سے ملائیں۔

ط

•



•

س



ظ

•



•

ع



غ

•



•

ض



ص

•




•

ش



سوال نمبر: ۵ حروف پر پنسل پھیریں اور رنگ بھریں۔



English - Playgroup

Student's Name: _____ Roll No: _____

School Name: _____

نوٹ: سوالات پرچے میں دی گئی جگہ پر ہی حل کریں۔ اضافی کاپی ہرگز مہیا نہیں کی جائے گی۔ معروضی میں کاٹ کر یا مٹا کر لکھے گئے جوابات غلط تصور ہوں گے۔

Total Marks	Obtained Marks	Grade	Remarks	Examiner Sign
50				

Q.No:1.Reading. 10

Q.No:2. Trace the letters "A" to "J". 10

A	B	C	D	E
F	G	H	I	J

Q.No:3. Circle the first letter of each picture. 10



Q.No:4. Match the letters with relevant pictures.

10



I

L

N

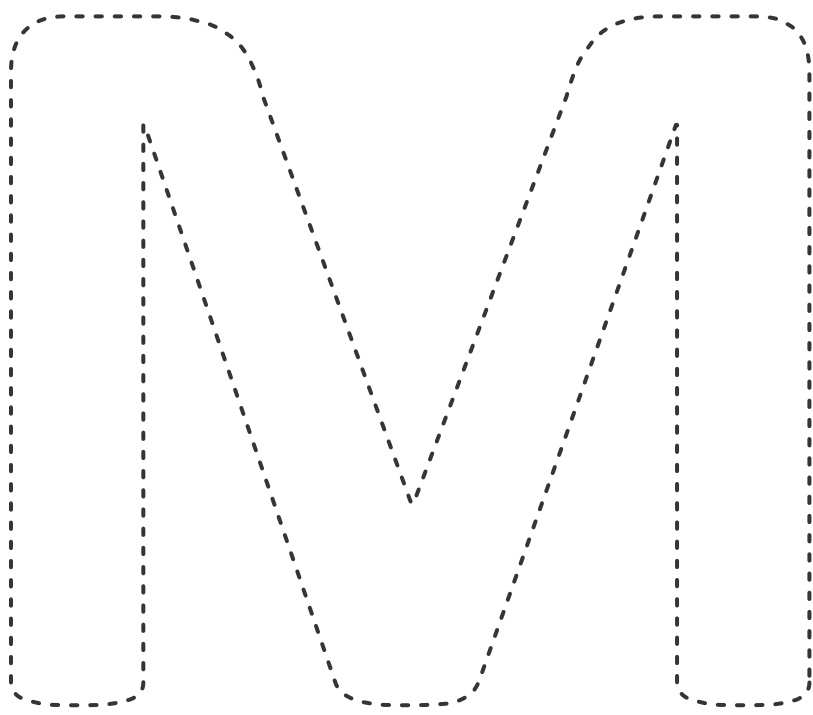

O

P



Q.No:5. Trace and colour the letters.

10



Mathematics - Playgroup

Student's Name: _____ Roll No: _____

School Name: _____

نوٹ: سوالات پرچے میں دی گئی جگہ پر ہی حل کریں۔ اضافی کاپی ہرگز مہیا نہیں کی جائے گی۔ معروضی میں کاٹ کر یا مٹا کر لکھے گئے جوابات غلط تصور ہوں گے۔

Total Marks	Obtained Marks	Grade	Remarks	Examiner Sign
50				

Q.No:1.Oral. 10

Q.No:2. Write the counting 1 to 10. 10

Q.No:3.Circle the correct digits. 5

◀ 3 4 1 2



2 1 3 4 ▶

◀ 1 2 4 3



4 1 2 3 ▶

Q.No:5. Write the missing digits. 5



Q.No:5. Match the digits with pictures. 10



5



6

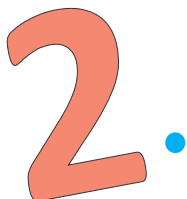


7



8

Q.No:6. Match the same digits. 10



وقت 2:00 گھنٹے

امتحان: سیکنڈ ٹرم (رائٹ وے سیریز)

پرچہ اُردو۔ نرسری

نام طالب علم:

رول نمبر:

نام اسکول:

نوٹ: سوالات پرچے میں دی گئی جگہ پر ہی حل کریں۔ اضافی کاپی ہرگز مہیا نہیں کی جائے گی۔ معروضی میں کاٹ کر یا مٹا کر لکھے گئے جوابات غلط تصور ہوں گے۔

کل نمبر	حاصل کردہ نمبر	گریڈ	نتیجہ	دستخط ممتحن
50				

سوال نمبر: ۱۔ پڑھائی۔

10

سوال نمبر: ۲۔ حروف تہجی لکھیں۔

10

05

سوال نمبر: ۳ تصاویر کے نام کے پہلے حرف کے گرد دائرہ لگائیں۔



ص ا ش



ض ش س



ش س ص



ث ب ض



ف گ ش



ص ش س



کیک

گیند

فوجی

غبارا

قالین

قمیص

گائے

فاختہ

کرسی

گڑیا

English - Nursery

Student's Name: _____ Roll No: _____

School Name: _____

نوٹ: سوالات پرچے میں دی گئی جگہ پر ہی حل کریں۔ اضافی کاپی ہرگز مہیا نہیں کی جائے گی۔ معروضی میں کاٹ کر یا مٹا کر لکھے گئے جوابات غلط تصور ہوں گے۔

Total Marks	Obtained Marks	Grade	Remarks	Examiner Sign
50				

Q.No:1.Reading. 10

Q.No:2. Write the name of each picture. 10



Q.No:3. Match the pictures with the relevant names. 10



Joker

Key

Lamp

Iron

Q.No:4. Tick (✓) the correct beginning letter of each picture. 05



M

N

P

O



D

O

I

N



Q.No:5. Tick the correct word according to the picture. 05



Monkey Panda



Peacock Panda



Monkey Pigeon



Mug Necklace



Panda Parrot

Q.No:6. Rearrange the words. 10



i u l l q



g i r n



S w t r a b r r e y



T i e g r

Mathematics - Nursery

Student's Name: _____ Roll No: _____

School Name: _____

نوٹ: سوالات پرچے میں دی گئی جگہ پر ہی حل کریں۔ اضافی کاپی ہرگز مہیا نہیں کی جائے گی۔ معروضی میں کاٹ کر یا مٹا کر لکھے گئے جوابات غلط تصور ہوں گے۔

Total Marks	Obtained Marks	Grade	Remarks	Examiner Sign
50				

Q.No:1. Write counting 1 to 30.

10

Q.No:2. Tick (✓) the thicker object and cross (x) the thinner one. 5


☐

☐

☐

☐

Q.No:3. Count and write the correct digit.

10











Q.No:4. Put the numbers in ascending order. 5

12,17,5,10,11

18,5,13,2,7

9,3,17,11,5

Q.No:6. Match the digits with their digit names. 10



Three



Two



One

1 2 3 4 5 6



Four



Five



Six

Q.No:5. Write the digit name under each digit. 10

3

5

7

9

11

وقت 2:00 گھنٹے

امتحان: سیکنڈ ٹرم (رائٹ وے سیریز)

پرچہ اُردو - پریپ

نام طالب علم:

رول نمبر:

نام اسکول:

نوٹ: سوالات پرچے میں دی گئی جگہ پر ہی حل کریں۔ اضافی کاپی ہرگز مہیا نہیں کی جائے گی۔ معروضی میں کاٹ کر یا مٹا کر لکھے گئے جوابات غلط تصور ہوں گے۔

کل نمبر	حاصل کردہ نمبر	گریڈ	نتیجہ	دستخط ممتحن
50				

سوال نمبر: ۱۔ پڑھائی۔

10

سوال نمبر: ۲۔ حروف پر 'زیر' لگائیں۔

5

ب	پ	ت	ٹ	ث	ج	چ	ح
د	ڈ	ذ	ر	ڑ	ز	ژ	س
ص	ض	ط	ظ	ع	غ	ف	ق
گ	ل	م	ن	و	ہ	ء	یے

سوال نمبر: ۳۔ 'و' کے مرکب والے الفاظ لکھیں۔

5

'ے' کے مرکب والے الفاظ لکھیں۔

5

'ا' کے مرکب والے الفاظ لکھیں۔

5

5

سوال نمبر: ۴۔ حروف پر نقطے اور 'ط' ڈالیں۔

تین حرفی الفاظ کو سادہ جملوں میں استعمال کریں۔

آڑو _____ تاج _____
 جاٹ _____ بات _____
 آری _____

5

سوال نمبر: ۵۔ الفاظ پر مطلوبہ جگہ پر جزم 'لگا کر خوش خط کر کے لکھیں۔

_____	بستر	_____	تل
_____	حسرت	_____	جون
_____	رب	_____	نفرت

10

سوال نمبر: ۶۔ درج ذیل واحد کے جمع لکھیں۔

	مالٹا		ستار
	جرا ب		کتاب
	جو تا		بلی
	چابی		کار
	تتلی		بستہ

English - Prep

Student's Name: _____ Roll No: _____

School Name: _____

نوٹ: سوالات پرچے میں دی گئی جگہ پر ہی حل کریں۔ اضافی کاپی ہرگز مہیا نہیں کی جائے گی۔ معروضی میں کاٹ کر یا مٹا کر لکھے گئے جوابات غلط تصور ہوں گے۔

Total Marks	Obtained Marks	Grade	Remarks	Examiner Sign
50				

Q.No:1.Reading. 10

Q.No:2. Fill in the blanks. 10

This is an orange.
_____ is my orange.



This is a horse.
_____ is your horse.

This is an ice cream.
_____ is my ice cream.




This is a desk.
_____ is your desk.

This is a carrot.
_____ is my carrot.



Q.No:3. Match the pictures with their relevant opposites. 10



Q.No:4. Write the missing letters.

5

				
ir___n	ri___g	hou__e	f___ok	pen__il

Q.No:5 Use “is” and “are” to fill in the blanks.

5

This ____ a bird.



These ____ birds.



This ____ a flower.



These ____ shoes.








This ____ a cap.



Q.No:6 Write the plural of these.

10

Iron	Bird	Cup	Drum	Duck
				
_____	_____	_____	_____	_____

Mathematics - Prep

Student's Name: _____ Roll No: _____

School Name: _____

نوٹ: سوالات پرچے میں دی گئی جگہ پر ہی حل کریں۔ اضافی کاپی ہرگز مہیا نہیں کی جائے گی۔ معروضی میں کاٹ کر یا مٹا کر لکھے گئے جوابات غلط تصور ہوں گے۔

Total Marks	Obtained Marks	Grade	Remarks	Examiner Sign
50				

Q.No:1. Write counting 1 to 45. 10

Q.No:2 Match the following numbers with their number names. 5

23

27

25

24

Twenty Five Twenty Four Twenty Three Twenty Seven

Q.No:3. Add the following. 10

$$\begin{array}{r} \text{I} \quad \text{U} \\ 1 \quad 5 \\ + 1 \quad 1 \\ \hline \end{array}$$

$$\begin{array}{r} \text{I} \quad \text{U} \\ 1 \quad 2 \\ + 1 \quad 2 \\ \hline \end{array}$$

$$\begin{array}{r} \text{I} \quad \text{U} \\ 1 \quad 6 \\ + 1 \quad 0 \\ \hline \end{array}$$

$$\begin{array}{r} \text{I} \quad \text{U} \\ 2 \quad 1 \\ + \quad \quad 7 \\ \hline \end{array}$$

$$\begin{array}{r} \text{I} \quad \text{U} \\ 1 \quad 3 \\ + 1 \quad 2 \\ \hline \end{array}$$

Q.No:4 Subtract the following. 10

$$\begin{array}{r} \text{I} \quad \text{U} \\ 3 \quad 2 \\ - 1 \quad 2 \\ \hline \end{array}$$

$$\begin{array}{r} \text{I} \quad \text{U} \\ 2 \quad 3 \\ - 1 \quad 3 \\ \hline \end{array}$$

$$\begin{array}{r} \text{I} \quad \text{U} \\ 2 \quad 8 \\ - 1 \quad 1 \\ \hline \end{array}$$

$$\begin{array}{r} \text{I} \quad \text{U} \\ 2 \quad 3 \\ - 1 \quad 2 \\ \hline \end{array}$$

$$\begin{array}{r} \text{I} \quad \text{U} \\ 2 \quad 7 \\ - 1 \quad 7 \\ \hline \end{array}$$

Q.No:5

Write the numbers in ascending order.

2

5, 8, 10, 3, 2

45, 18, 20, 33, 24

Q.No:6

Write the numbers in descending order.

4

55, 15, 86, 33, 25

72, 67, 83, 49, 28

Q.No:7

Write next even numbers.

3

10

Q.No:8

Write next odd numbers.

3

40

MATHEMATICS - CLASS ONE

Student's Name: _____ Roll No: _____

School Name: _____

نوٹ: سوالات پرچے میں دی گئی جگہ پر ہی حل کریں۔ اضافی کاپی ہرگز مہیا نہیں کی جائے گی۔ معروضی میں کاٹ کر یا مٹا کر لکھے گئے جوابات غلط تصور ہوں گے۔

Total Marks	Obtained Marks	Grade	Remarks	Examiner Sign
50				

Q.No:1.Reading. 10

Q.No:2. Match the objects with the names of shapes. 10



Triangle

Square

Rectangle

Circle

Q.No:3. Write these numbers in words. 10

22 _____ 31 _____ 44 _____

50 _____ 63 _____ 28 _____

37 _____ 49 _____ 56 _____

67 _____

Q.No:4. Write the missing numbers. 05

● 33 35

● 55 57

● 61, 62,

● 41 43

● 47, 48,

Q.No:5. Write the place value in tens and ones.

05



Tens

Ones



Tens

Ones

Q.No:6. Solve these.

10

10
- 2

75
- 3

88
- 7

49
+ 5

98
- 12

86
- 30

56
- 41

67
- 56

45
+ 20

44
- 33

Computer - Prep

Student's Name: _____ Roll No: _____

School Name: _____

نوٹ: سوالات پرچے میں دی گئی جگہ پر ہی حل کریں۔ اضافی کاپی ہرگز مہیا نہیں کی جائے گی۔ معروضی میں کاٹ کر یا مٹا کر لکھے گئے جوابات غلط تصور ہوں گے۔

Total Marks	Obtained Marks	Grade	Remarks	Examiner Sign
50				

Q.No:1.Reading.

10

Q.No:2. Match the images with its correct name.

10

Keyboard

Laptop

Monitor

Notebook

Optical Fiber



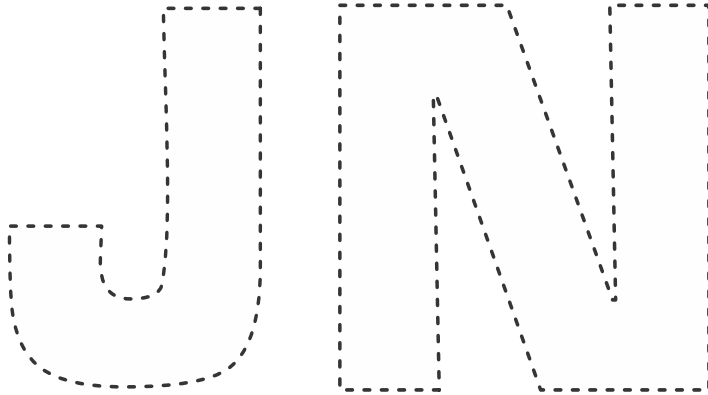
Q.No:3. Fill in the missing letters.

10

J	O		S		I	C	
K		Y	B		A		D
L		P	T		P		
M		N		T		R	
N		T		B			K

Q.No:4. Trace and colour.

05



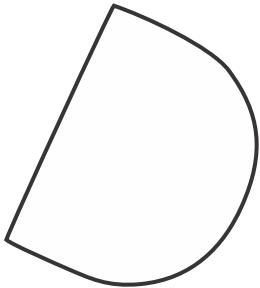


Q.No:5. Write the first letter of the devices.

05



Q.No:6. Colour the pictures.

10



وقت 2:00 گھنٹے

امتحان: سیکنڈ ٹرم (رائٹ وے سیریز)

کلاس اول۔ پرچہ اسلامیات

نام طالب علم:

نام اسکول:

نوٹ: سوالات پرچے میں دی گئی جگہ پر ہی حل کریں۔ اضافی کاپی ہرگز مہیا نہیں کی جائے گی۔ حصہ معروضی میں کاٹ کر یا مٹا کر لکھے گئے جوابات غلط تصور ہوں گے۔

کل نمبر	حاصل کردہ نمبر	گریڈ	نتیجہ	دستخط ممتحن
50				

{ حصہ معروضی }

5

☆ خالی جگہیں پر کریں۔

- 1۔ حضرت جبرائیل علیہ السلام انبیاء کرام کے پاس لے کر آتے تھے۔
- 2۔ قرآن مجید تقریباً سال کے عرصے میں نازل ہوا۔
- 3۔ مسجد کے معنی ہیں کرنے کی جگہ۔
- 4۔ مسجد میں چیزیں کھا کر نہیں جانا چاہیے۔
- 5۔ سلام میں کرنے کا ثواب زیادہ ہے۔

10

☆ درست جواب پر (✓) لگائیں۔

- 1۔ پورا سال گزرنے کے بعد نقد مال میں سے زکوٰۃ کا حصہ فرض ہے:
 - (a) چالیسواں
 - (b) بیسواں
 - (c) تیسواں
- 2۔ ایک سال میں روزے فرض ہیں:
 - (a) دو ماہ کے
 - (b) ایک ماہ کے
 - (c) تین ماہ کے
- 3۔ حج اسلام کا رکن ہے:
 - (a) پہلا
 - (b) پانچواں
 - (c) تیسرا
- 4۔ مسجد گھر ہے:
 - (a) انسان کا
 - (b) اللہ تعالیٰ کا
 - (c) فرشتوں کا
- 5۔ اسلام کی سب سے پہلی مسجد ہے:
 - (a) مسجد حرام
 - (b) مسجد نبوی
 - (c) مسجد قباء

☆ درست بیانات پر (✓) اور غلط بیانات پر (x) کا نشان لگائیں:

5

- 1۔ قرآن مجید کو وضو کر کے ہاتھ لگانا چاہیے۔
- 2۔ قرآن مجید کی کل 30 سورتیں ہیں۔
- 3۔ قرآن مجید دیکھ کر پڑھنا ناظرہ کہلاتا ہے۔
- 4۔ مسجد میں داخل ہوتے وقت پہلا دایاں پاؤں اندر رکھتے ہیں۔
- 5۔ مسجد فرشتوں کا گھر ہے۔

نوٹ: مندرجہ ذیل میں سے کوئی سے پانچ سوالات کے جوابات لکھیں۔

سوال نمبر 1: فرشتے اللہ تعالیٰ کی کون سی مخلوق ہیں؟

جواب:

سوال نمبر 2: انسان کے اعمال کون سے فرشتے لکھتے ہیں؟

جواب:

سوال نمبر 3: اللہ تعالیٰ کی آخری کتاب کا نام کیا ہے؟

جواب:

سوال نمبر 4: قرآن مجید کس نبی پر نازل ہوا؟

جواب:

سوال نمبر 5: نماز کی اہمیت مختصراً بیان کریں۔

جواب:

سوال نمبر 6: روزہ کسے کہتے ہیں؟

جواب:

سوال نمبر 7: آپ صلی اللہ علیہ وآلہ وسلم کا روضہ مبارک کہاں ہے؟

جواب:

وقت 2:00 گھنٹے

امتحان: سیکنڈ ٹرم (رائٹ وے سیریز)

کلاس اول۔ پرچہ اردو

نام طالب علم:..... رول نمبر:.....

نام اسکول:.....

نوٹ: سوالات پرچے میں دی گئی جگہ پر ہی حل کریں۔ اضافی کاپی ہرگز مہیا نہیں کی جائے گی۔ حصہ معروضی میں کاٹ کر یا مٹا کر لکھے گئے جوابات غلط تصور ہوں گے۔

کل نمبر	حاصل کردہ نمبر	گریڈ	نتیجہ	دستخط ممتحن
50				

{ حصہ معروضی }

5

☆ خالی جگہیں پر کریں۔

1- آپ صلی اللہ علیہ وآلہ وسلم..... ربیع الاول 571ء کو پیدا ہوئے۔

2- آپ صلی اللہ علیہ وآلہ وسلم کے والد ماجد کا نام..... ہے۔

3- ہمارے پیارے ملک کے..... صوبے ہیں۔

4- چلتے چلتے وہ ایک..... میں پہنچے۔

5- ایک کسان کے..... بیٹھے۔

10

☆ درست جواب پر (✓) لگائیں۔

1- ہمارے پیارے نبی صلی اللہ علیہ وآلہ وسلم کس سن عیسوی میں پیدا ہوئے؟

(a) 553ء (b) 635ء (c) 571ء

2- پاکستان کے بانی ہیں:

(a) علامہ اقبالؒ (b) قائد اعظم محمد علی جناحؒ (c) لیاقت علی خانؒ

3- ہمارے وطن کے صوبے ہیں:

(a) تین (b) پانچ (c) چار

4- مسلمانوں کے دوسرے خلیفہ..... تھے۔

(a) حضرت عمر فاروق رضی اللہ عنہ (b) حضرت ابو بکر صدیق رضی اللہ عنہ (c) حضرت عثمان غنی رضی اللہ عنہ

5- حضرت عمر رضی اللہ عنہ کا لقب ہے:

(a) غنی (b) فاروق (c) صدیق

5

☆ درست بیانات پر (✓) اور غلط بیانات پر (x) کا نشان لگائیں:

1- ہمارے پرچم پر چاند تارا بنا ہوا ہے۔

2- علامہ اقبالؒ پاکستان کے بانی ہیں۔

3- پاکستان 15 اگست 1947ء کو قائم ہوا۔

4- ہم صوبہ پنجاب میں رہتے ہیں۔

5- ہمارے وطن کے پانچ صوبے ہیں۔

نوٹ: مندرجہ ذیل میں سے کوئی سے پانچ سوالات کے جوابات لکھیں۔

سوال نمبر 1: ہمارے پیارے نبی صلی اللہ علیہ وآلہ وسلم کب اور کہاں پیدا ہوئے؟

جواب:

سوال نمبر 2: ہمارے وطن کا نام کیا ہے؟

جواب:

سوال نمبر 3: پاکستان کی اہم ترین فصلیں کون سی ہیں؟

جواب:

سوال نمبر 4: ریچھ نے نیچے رہ جانے والے دوست کو کیا نصیحت کی؟

جواب:

سوال نمبر 5: ہمارا قومی پھول کون سا ہے؟

جواب:

سوال نمبر 6: حضرت عمر رضی اللہ عنہ نے کس عمر میں اسلام قبول کیا؟

جواب:

سوال نمبر 7: کسان کے کتنے بیٹے تھے؟

جواب:

ENGLISH - CLASS ONE

Name: _____ Roll No: _____

School: _____

نوٹ: سوالات پرچے میں دی گئی جگہ پر ہی حل کریں۔ اضافی کاپی ہرگز مہیا نہیں کی جائے گی۔ معروضی میں کاٹ کر یا مٹا کر لکھے گئے جوابات غلط تصور ہوں گے۔

Total Marks	Obtained Marks	Grade	Remarks	Examiner Sign
50				

{Objective Type}

Q. No. 1: Fill in the blanks**10**

- Everybody has a _____.
- There is a _____ for teacher.
- There are _____ teachers in our school.
- Computer is an _____ device.
- My favourite game is _____.

Q. No. 2: Write the rhyming words.**10**

- name _____
- same _____
- long _____
- me _____
- tree _____

Q. No. 3: Make sentences.**10**

- Right _____
- Exactly _____
- Long _____
- Different _____
- Wrong _____

Q. No. 4: Answer the following questions:

10

1. How many chairs and tables are there in the classroom?

2. How many windows are there of classroom?

3. Who is the first inventor of computer?

4. Write four names of the part of computer.

5. What do you know about computer?

6. What is your favourite hobby?

7. What is the most popular game of the world?

Q. No. 5: What is sentence.

10

SOCIAL STUDIES CLASS ONE

Name: _____ Roll No: _____

School: _____

نوٹ: سوالات پرچے میں دی گئی جگہ پر ہی حل کریں۔ اضافی کاپی ہرگز مہیا نہیں کی جائے گی۔ معروضی میں کاٹ کر یا مٹا کر لکھے گئے جوابات غلط تصور ہوں گے۔

Total Marks	Obtained Marks	Grade	Remarks	Examiner Sign
50				

{Objective Type}

Q. No. 1: Fill in the blanks:**10**

- Eid is celebrated to _____ Allah for his blessings.
- Some food is _____ from animals like meat.
- Children get _____ from elders.
- On the morning of Eid, the people _____ new clothes and go for Eid's prayers.
- Food makes us _____ and powerful.

Q. No. 2: Choose correct answer.**10**

- Eid-ul-Fitr is an Islamic _____.
(a) event (b) festival (c) fair
- Hospital is a place where sick people are _____.
(a) taught (b) fed (c) cured
- The Muslims start Eid preparations before many _____.
(a) months (b) weeks (c) days
- We eat _____ kinds of food.
(a) some (b) alike (c) different
- The carrot is:
(a) vegetable (b) fruit (c) flower

Q. No. 3: Match the column "A" with column "B".**5**

Eid-ul-Fitr is
Tennis is
Doctors
The Muslims go for
Library

an indoor game.
an Islamic festival.
Eid's prayer.
to read books.
to cure patients.

Note: Answer the following question. (any five)

25

1. What is the benefit of food.

2. Which is the place from where aeroplane take off?

3. Name the place where we get on the train.

4. What food do we get from plants.

5. From whom do the children get Eidee?

6. What the people do on Eid's morning?

7. What is Eid-ul-Fitr?

SCIENCE-CLASS ONE

Name: _____ Roll No: _____

School: _____


نوٹ: سوالات پرچے میں دی گئی جگہ پر ہی حل کریں۔ اضافی کاپی ہرگز مہیا نہیں کی جائے گی۔ معروضی میں کاٹ کر یا مٹا کر لکھے گئے جوابات غلط تصور ہوں گے۔

Total Marks	Obtained Marks	Grade	Remarks	Examiner Sign
50				

{Objective Type}

Q. No. 1: Which animals help us in transport. circle them.

5



Q. No. 2: Circle the things which come from the plants.

6



Q. No. 3: Match the word with the pictures.

4



Crawling

Running

Walking

Climbing



Q. No. 4: Write "T" for true and "F" for false.

5

- We get wool from donkey.
- The spider hops.
- A baby crawls on his hands and legs.
- Human beings do not need air to respire.
- Panda and giraffe eat only leaves of plants.

Note: Answer the following questions. (any five)

30

1. Which animals eat fodder and grass?

2. Which animals eat meat of other animals?

3. Write the names of some plants which give us cereals.

4. Write the names of some plants which give us pulses.

5. What are human beings?

6. From where do human beings get their food?

7. Which movement can human beings make?

COMPUTER - CLASS ONE

Name: _____ Roll No: _____

School: _____

نوٹ: سوالات پرچے میں دی گئی جگہ پر ہی حل کریں۔ اضافی کاپی ہرگز مہیا نہیں کی جائے گی۔ معروضی میں کاٹ کر یا مٹا کر لکھے گئے جوابات غلط تصور ہوں گے۔

Total Marks	Obtained Marks	Grade	Remarks	Examiner Sign
50				

{Objective Type}

Q. No. 1: Fill in the blanks:**5**

- _____ is used to move cursor/pointer on the screen of the monitor.
- We can solve _____ on a computer.
- Computer can store patient's _____ history.
- Mouse helps to _____ and select things on computer screen.
- There are _____ types of mouse.

Q. No. 2: Tick (✓) the correct answer:**10**

- The _____ is a small arrow on the computer screen.
(a) pointer (b) cursor (c) both a & b (d) mouse pad
- We can make daily reports and annual _____ on computer.
(a) budget (b) salary sheet (c) both a & b (d) none of these
- We can watch _____ on a computer.
(a) cartoons (b) movies (c) both a & b (d) none of these
- Mouse is an _____ device.
(a) input (b) output (c) external (d) internal
- Computer is used in _____.
(a) hospitals (b) schools (c) offices (d) all of these

Q. No. 3: Write the name of each type of mouse.**5**

.....



.....



.....

Note: Answer the following questions of any five:

30

1. What is a mouse?

2. What happens when we click right button of a mouse twice?

3. What are educational uses of computer? write any two uses.

4. How is computer helpful in healthcare?

5. How can a computer help us in our daily life. Explain in two lines.

6. How can we drag and drop or move an item?

7. What is the function of scroll wheel?

وقت 2:00 گھنٹے

امتحان: سیکنڈ ٹرم (رائٹ وے سیریز)

کلاس دوم - پرچہ اسلامیات

نام طالب علم:

نام اسکول:

نوٹ: سوالات پرچے میں دی گئی جگہ پر ہی حل کریں۔ اضافی کاپی ہرگز مہیا نہیں کی جائے گی۔ حصہ معروضی میں کاٹ کر یا مٹا کر لکھے گئے جوابات غلط تصور ہوں گے۔

کل نمبر	حاصل کردہ نمبر	گریڈ	نتیجہ	دستخط ممتحن
50				

{ حصہ معروضی }

5

☆ خالی جگہیں پر کریں۔

1- خانہ کعبہ میں واقع ہے۔

2- جناب ابوطالب کا پیشہ تھا۔

3- عربی میں معاہدے کو کہتے ہیں۔

4- صداقت کے معنی ہیں بولنا۔

5- سچ بولنے سے خوش ہوتا ہے۔

10

☆ درست جواب پر (✓) لگائیں۔

1- جب حضرت بی بی آمنہؓ کا وصال ہوا اس وقت آپ صلی اللہ علیہ وآلہ کی عمر تھی:

(a) چھ سال (b) آٹھ سال (c) دس سال

2- حرب فجار میں نبی اکرم صلی اللہ علیہ وآلہ نے اپنے چچاؤں کو اٹھا کر دیے:

(a) نیزے (b) پتھر (c) تیر

3- نبی کریم صلی اللہ علیہ وآلہ کس لقب سے مشہور تھے؟

(a) صدیق (b) صادق (c) مرتضیٰ

4- نبی کریم صلی اللہ علیہ وآلہ وسلم نے لوگوں کو کس پرچہ کر بلایا:

(a) جبل رحمت (b) صفا (c) احد

5- والدین کے بعد اللہ تعالیٰ کی سب سے بڑی نعمت ہیں:

(a) بہن بھائی (b) ہمسائے (c) یار دوست

5

☆ درست بیانات پر (✓) اور غلط بیانات پر (x) کا نشان لگائیں:

1- مقدس مہینوں میں قبیلہ قریش اور بنو ہاشم کے درمیان لڑائی ہوئی۔

2- اس لڑائی کو حرب فجار کہتے ہیں۔

3- عرب کے دو قبیلوں کی رمضان میں لڑائی ہوئی۔

4- حرب فجار میں نبی کریم صلی اللہ علیہ وآلہ نے شرکت کی۔

5- نبی کریم صلی اللہ علیہ وآلہ حلف الفضول میں شرکت پر خوشی کا اظہار فرماتے تھے۔

نوٹ: مندرجہ ذیل میں سے کوئی سے پانچ سوالات کے جوابات لکھیں۔

سوال نمبر 1: نبی کریم صلی اللہ علیہ وآلہ کب اور کہاں پیدا ہوئے؟

جواب:

سوال نمبر 2: حربِ فجار کن مہینوں میں ہوئی؟

جواب:

سوال نمبر 3: صداقت سے کیا مراد ہے؟

جواب:

سوال نمبر 4: جھوٹ بولنے والے پر کون لعنت کرتا ہے؟

جواب:

سوال نمبر 5: امانت سے کیا مراد ہے؟

جواب:

سوال نمبر 6: خیانت کسے کہتے ہیں؟

جواب:

سوال نمبر 7: بہن بھائیوں کے حقوق کون کون سے ہیں؟

جواب:

وقت 2:00 گھنٹے

امتحان: سیکنڈ ٹرم (رائٹ وے سیریز)

کلاس دوم - پرچہ اردو

نام طالب علم:..... رول نمبر:.....

نام اسکول:.....

نوٹ: سوالات پرچے میں دی گئی جگہ پر ہی حل کریں۔ اضافی کاپی ہرگز مہیا نہیں کی جائے گی۔ حصہ معروضی میں کاٹ کر یا مٹا کر لکھے گئے جوابات غلط تصور ہوں گے۔

کل نمبر	حاصل کردہ نمبر	گریڈ	نتیجہ	دستخط ممتحن
50				

{ حصہ معروضی }

5

☆ خالی جگہیں پر کریں۔

1۔ بھارتی فوجیوں نے پاکستان پر..... کر دیا۔

2۔ اپنی جان ملک پر..... کر دی۔

3۔ ہم ناچیں گے..... گے

4۔ لکڑ ہارا قیمتی..... پا کر بہت خوش ہوا۔

5۔ ہما..... بھائیوں کی اکلوتی بہن تھی۔

10

☆ درست جواب پر (✓) لگائیں۔

1۔ بھارت نے کس وقت حملہ کیا؟

(a) صبح (b) شام (c) دوپہر

2۔ مینہ میں کون نہائے گا؟

(a) جانور (b) لوگ (c) کوئی بھی نہیں

3۔ لکڑ ہارا ستانے کے لیے ایک سایہ دار..... لیٹ گیا۔

(a) درخت کے نیچے (b) جھاڑی کے نیچے (c) دیوار کے ساتھ

4۔ ہمارے کون سے امتحانات سر پر تھے؟

(a) سہ ماہی (b) ماہانہ (c) سالانہ

5۔ گاؤں میں کون رہتا تھا؟

(a) کسان (b) لکڑ ہارا (c) بڑھئی

☆ درست بیانات پر (✓) اور غلط بیانات پر (x) کا نشان لگائیں:

5

1۔ کسان کے بیٹے بہت نیک اور اچھے تھے۔

2۔ کسان کو ہر وقت اپنے بیٹوں کی فکر لاحق رہتی تھی۔

3۔ کسان نے انہیں بتایا کہ تیری زمین میں خزانہ دفن ہے۔

4۔ فصل دیکھ کر چاروں لڑکے بہت غمگین ہوئے۔

5۔ اس سال ان کو کوئی خاص منافع نہ ہوا۔

☐
☐
☐
☐
☐

نوٹ: مندرجہ ذیل میں سے کوئی سے پانچ سوالات کے جوابات لکھیں۔

سوال نمبر 1: میجر عزیز بھٹی شہید کس محاذ پر فوج کی کمان کر رہے تھے؟

جواب:

سوال نمبر 2: کس رنگ کے بادل آئیں گے؟

جواب:

سوال نمبر 3: لکڑہارا کیسا آدمی تھا؟

جواب:

سوال نمبر 4: ہما کیسی عادات کی مالک تھی؟

جواب:

سوال نمبر 5: کسان کے کتنے بیٹھے تھے؟

جواب:

سوال نمبر 6: بلبل کہاں بیٹھا تھا؟

جواب:

سوال نمبر 7: تین عورتیں کہاں رہی تھیں؟

جواب:

ENGLISH - CLASS TWO

Name: _____ Roll No: _____

School: _____

نوٹ: سوالات پرچے میں دی گئی جگہ پر ہی حل کریں۔ اضافی کاپی ہرگز مہیا نہیں کی جائے گی۔ معروضی میں کاٹ کر یا مٹا کر لکھے گئے جوابات غلط تصور ہوں گے۔

Total Marks	Obtained Marks	Grade	Remarks	Examiner Sign
50				

{Objective Type}

Q. No. 1: Fill in the blanks**10**

- Trees provides us _____.
- We use trees to make _____.
- Leave you _____ and leave your sleep
- The children are going to the _____ to see lions.
- The princess began to eat her _____ happily.

Q. No. 2: Tick (✓) the correct and cross (x) the false options.**10**

- Trees provide us:

(a) electricity	(b) fruits	(c) knowledge
-----------------	------------	---------------
- The conversation is between a woodcutter and a:

(a) herb	(b) tree	(c) plant
----------	----------	-----------
- Woodcutter cut the trees to make:

(a) money	(b) oxygen	(c) furniture
-----------	------------	---------------
- The little princess was looking at:

(a) the Sun	(b) the Moon	(c) the Sky
-------------	--------------	-------------
- The little princess was very:

(a) happy	(b) sad	(c) tired
-----------	---------	-----------

Q. No. 3: Supply the missing letters.**10**

- f____rest
- m____ther
- l____on
- c____lour
- dan____erous

Q. No. 4: Answer the following questions:

10

1.

Why did sunny go to the garden?
2.

Who was Chotto?
3.

Who go to see animals in the Zoo?
4.

Why does the woodcutter want to cut the tree?
5.

Why do the kids enjoy the hottest season?
6.

How do the kids feel throughout the vacation?
7.

Did the woodcutter cut the tree?

Q. No. 5: Fill in the blanks using given verbs.

10

- i.

They are _____ food.
- ii.

She is _____ a song.
- iii.

The cat is _____ up the tree.
- iv.

She is _____ books.
- v.

I am _____ milk.

SOCIAL STUDIES CLASS TWO

Name: _____ Roll No: _____

School: _____

نوٹ: سوالات پرچے میں دی گئی جگہ پر ہی حل کریں۔ اضافی کاپی ہرگز مہیا نہیں کی جائے گی۔ معروضی میں کاٹ کر یا مٹا کر لکھے گئے جوابات غلط تصور ہوں گے۔

Total Marks	Obtained Marks	Grade	Remarks	Examiner Sign
50				

{Objective Type}

Q. No. 1: Fill in the blanks:**10**

1. Pakistan does not have great _____ of forests.
2. _____ plants produce fresh oxygen.
3. Our _____ is called environment.
4. Neat and clean _____ is good for health.
5. A _____ is used to find direction.

Q. No. 2: Tick (✓) for correct and (×) for false statement:**5**

1. Forests are not important in any way. ☐
2. Pakistan has great forests resources. ☐
3. Very less area of our country is covered by forests. ☐
4. We go to other cities by bicycles. ☐
5. Aeroplane is the is lowest mean of transport among all other means. ☐

Q. No. 3: Match the columns.**5**

Parrot and cat	for milk
Cow	wild animal
Camels	hen and duck
Lion	carry load
Eggs	pet animals

Q. No. 4: Name the things which you parents buy from the market.**5**

1. _____
2. _____
3. _____
4. _____
5. _____

Note: Answer the following question. (any five)

25

1. Are the forests important for us?

2. Does Pakistan have great resources of forests?

3. What is environment?

4. Which things make the environmnet beautiful?

5. What do you know about means of transport?

6. How many main directions are there?

7. What is market?

SCIENCE-CLASS TWO

Name: _____ Roll No: _____

School: _____

نوٹ: سوالات پرچے میں دی گئی جگہ پر ہی حل کریں۔ اضافی کاپی ہرگز مہیا نہیں کی جائے گی۔ معروضی میں کاٹ کر یا مٹا کر لکھے گئے جوابات غلط تصور ہوں گے۔

Total Marks	Obtained Marks	Grade	Remarks	Examiner Sign
50				

{Objective Type}

Q. No. 1: Fill in the blanks:**10**

- _____ grow under the ground.
- Living things can _____.
- Electricity is supplied to us through _____.
- The iron, stone and wood are _____ things.
- The flowers grow from _____.

Q. No. 2: Write "S" for solid , "L" for liquid objects and "G" for gas.**5**

- | | | | | | |
|-----------|----------------------|----------|----------------------|------------|----------------------|
| 1. Silver | <input type="text"/> | 2. Milk | <input type="text"/> | 3. Plastic | <input type="text"/> |
| 4. Water | <input type="text"/> | 5. Rocks | <input type="text"/> | 6. Oxygen | <input type="text"/> |
| 7. Air | <input type="text"/> | 8. Paint | <input type="text"/> | 9. Oil | <input type="text"/> |
| 10. Blood | <input type="text"/> | | | | |

Q. No. 3: Write "T" for true and "F" for false.**5**

- | | |
|---|----------------------|
| 1. The stem of a tree is called Trunk | <input type="text"/> |
| 2. Stem prepare food for the plants. | <input type="text"/> |
| 3. Your shadwo is short in the the evening. | <input type="text"/> |
| 4. We can live without water. | <input type="text"/> |
| 5. Boiled water is safe to drink. | <input type="text"/> |

Note: Answer the following questions. (any five)

30

1. Write the name of different parts of a plant.

2. Briefly describe a stem.

3. Why do we need water?

4. How do we kill germs in water?

5. What things are called liquid?

6. Write the names of two solid objects.

7. What does the sun give us?

COMPUTER - CLASS TWO

Name: _____ Roll No: _____

School: _____

نوٹ: سوالات پرچے میں دی گئی جگہ پر ہی حل کریں۔ اضافی کاپی ہرگز مہیا نہیں کی جائے گی۔ معروضی میں کاٹ کر یا مٹا کر لکھے گئے جوابات غلط تصور ہوں گے۔

Total Marks	Obtained Marks	Grade	Remarks	Examiner Sign
50				

{Objective Type}

Q. No. 2: Fill in the blanks.**10**

1. Speaker is a / an _____ device.
2. Mouse is a / an _____ device.
3. Keyboard looks like a _____.
4. A mouse has _____ parts.
5. Joystick is used for _____.

Q. No. 2: Encircle the correct answer:**10**

1. There are _____ parts of a computer system.
(a) 4 (b) 3 (c) 2 (d) 1
2. A rigid rectangular circuit board is known as _____.
(a) CPU (b) keyboard (c) monitor (d) motherboard
3. _____ is an input device.
(a) mouse (b) keyboard (c) printer (d) both a & b
4. Keyboard is used to enter _____.
(a) picture (b) files (c) audio (d) data and instructions
5. _____ is an arrow on screen, that helps us to move and select items on screen.
(a) cursor (b) pointer (c) none of these (d) both a & b

Q. No. 3: Write the names of the following.**5**

.....



.....



.....



.....



.....

Note: Answer the following questions of any five:

25

1. What is the brain of computer?

2. Define scanner.

3. What is memory unit?

4. What do you know about keyboard?

5. What is a digital camera?

6. What is an output device?

7. What is a monitor?

MATHEMATICS - CLASS TWO

Name: _____ Roll No: _____

School: _____

نوٹ: سوالات پرچے میں دی گئی جگہ پر ہی حل کریں۔ اضافی کاپی ہرگز مہیا نہیں کی جائے گی۔ معروضی میں کاٹ کر یا مٹا کر لکھے گئے ہونے
جوابات غلط تصور ہوں گے۔

Total Marks	Obtained Marks	Grade	Remarks	Examiner Sign
50				

{Objective Type}

Q. No. 1: Fill in the blanks.**10**

a. $2 \times 3 =$ _____

b. _____ $\times 4 = 20$

c. $6 \times 1 =$ _____

d. $6 \times 6 =$ _____

e. $2 \times$ _____ $= 8$

Q. No. 2: Encircle (✓) the correct answer:**6**

(a) Rs. 82

(b) Rs. 94

(c) Rs. 89

- Rs. 70

- Rs. 30

- Rs. 39

(d) Rs. 66

(e) Rs. 48

(f) Rs. 79

- Rs. 32

- Rs. 28

- Rs. 54

Q. No. 3: (a) A ticket of park costs Rs.8. We have to buy three tickets. What is the total amount we have to pay?

2

(b) Ali purchased a toy for Rs. 110 and another toy for Rs. 50. How much money did he spend?

2

Q. No. 4: Divide the following.**5**

a. $12 \div 4 =$ _____

b. $12 \div 6 =$ _____

c. $14 \div 2 =$ _____

d. $12 \div 4 =$ _____

e. $24 \div 3 =$ _____

Q. No. 5: Write the table of 6.

5


Q. No. 5: Tick (✓) for correct and cross (x) for wrong answers.

5

- | | | |
|----|------------------|----------------------|
| a. | $12 \div 2 = 6$ | <input type="text"/> |
| b. | $16 \div 4 = 12$ | <input type="text"/> |
| c. | $14 \div 2 = 8$ | <input type="text"/> |
| d. | $20 \div 2 = 10$ | <input type="text"/> |
| e. | $18 \div 3 = 6$ | <input type="text"/> |

Q. No. 6: Write the time of the given clocks.

10



وقت 2:00 گھنٹے

امتحان: سیکنڈ ٹرم (رائٹ وے سیریز)

کلاس سوم - پرچہ اسلامیات

نام طالب علم:

نام اسکول:

نوٹ: سوالات پرچے میں دی گئی جگہ پر ہی حل کریں۔ اضافی کاپی ہرگز مہیا نہیں کی جائے گی۔ حصہ معروضی میں کاٹ کر یا مٹا کر لکھے گئے جوابات غلط تصور ہوں گے۔

کل نمبر	حاصل کردہ نمبر	گریڈ	نتیجہ	دستخط ممتحن
50				

{ حصہ معروضی }

5

☆ خالی جگہیں پر کریں۔

1۔ ”آخرت“ کے معنی..... میں آنے والی چیز کے ہیں۔

2۔ دنیا..... کی کھیتی ہے۔

3۔ وضو کے بغیر..... نہیں پڑھی جاسکتی۔

4۔ نماز دین اسلام کا..... رکن ہے۔

5۔ نماز میری آنکھوں کی..... ہے۔

10

☆ درست جواب پر دائرہ (✓) لگائیں۔

1۔ جو لوگ اچھے کام کرتے ہیں وہ جائیں گے:

(a) برزخ میں (b) دوزخ میں (c) جنت میں

2۔ صور پھونکیں گے:

(a) حضرت جبرائیل علیہ السلام (b) حضرت عزرائیل علیہ السلام (c) حضرت اسرافیل علیہ السلام

3۔ وضو کرنے سے پہلے پڑھنی چاہیے:

(a) تسمیہ (b) تعوذ (c) پہلا کلمہ

4۔ قیامت کے روز سب سے پہلا سوال..... ہوگا۔

(a) روزے کا (b) زکوٰۃ کا (c) نماز کا

5۔ نماز کی شرائط ہیں:

(a) 5 (b) 6 (c) 7

5

☆ درست بیانات پر (✓) اور غلط بیانات پر (x) کا نشان لگائیں:

1۔ آخرت سے مراد ”مرنے کے بعد کی زندگی“ ہے۔

2۔ قیامت کے دن حضرت عزرائیل صور پھونکیں گے۔

3۔ جن لوگوں نے دنیا میں اچھے کام کیے وہ دوزخ میں جائیں گے۔

4۔ دنیا آخرت کی کھیتی ہے۔

5۔ حضرت اسرافیل انسان کے اعمال کا حساب لیں گے۔

نوٹ: مندرجہ ذیل میں سے کوئی سے پانچ سوالات کے جوابات لکھیں۔

سوال نمبر 1: یومِ قیامت کسے کہتے ہیں؟

جواب:

.....

.....

سوال نمبر 2: وضو کسے کہتے ہیں؟

جواب:

.....

.....

سوال نمبر 3: وضو کرنے سے کیا ہوتا ہے؟

جواب:

.....

.....

سوال نمبر 4: استقبال قبلہ سے کیا مراد ہے؟

جواب:

.....

.....

سوال نمبر 5: نماز کے کتنے فرائض ہیں؟

جواب:

.....

.....

سوال نمبر 6: تشہد سے کیا مراد ہے؟

جواب:

.....

.....

سوال نمبر 7: حجرِ اسود کیسے لگایا گیا تھا؟

جواب:

.....

.....

وقت 2:00 گھنٹے

امتحان: سیکنڈ ٹرم (رائٹ وے سیریز)

کلاس سوم - پرچہ اردو

نام طالب علم:..... رول نمبر:.....

نام اسکول:.....

نوٹ: سوالات پرچے میں دی گئی جگہ پر ہی حل کریں۔ اضافی کاپی ہرگز مہیا نہیں کی جائے گی۔ حصہ معروضی میں کاٹ کر یا مٹا کر لکھے گئے جوابات غلط تصور ہوں گے۔

کل نمبر	حاصل کردہ نمبر	گریڈ	نتیجہ	دستخط ممتحن
50				

{ حصہ معروضی }

5

☆ خالی جگہیں پر کریں۔

- 1۔ عربی زبان میں حزن کا مطلب..... ہے۔
- 2۔ محصور افراد کو اپنی بھوک مٹانے کے لیے..... بھی کھانے پڑے۔
- 3۔ دیں کارکن..... ہوئی
- 4۔ ان میں سے ایک آدمی نے..... کپڑے پہنے ہوئے تھے۔
- 5۔ تندرستی قائم رکھنے کے لیے..... بہت ضروری ہے۔

10

☆ درست جواب پر (✓) لگائیں۔

1۔ عربی زبان میں عام کا مطلب ہے:

- 1۔ (a) دن (b) سال (c) مہینا
- 2۔ خلیفہ نے سارا..... سنا اور اگلے دن حاضر ہونے کا کہا:
- 3۔ رافع کے دوست کا کیا نام تھا؟ (a) حکم (b) فیصلہ (c) ماجرا
- 4۔ اٹھ باندھ..... کیا ڈرتا ہے (a) سمرہ (b) علی (c) معاذ
- 5۔ تو کیوں..... بھرتا ہے (a) کمر (b) سر (c) پاؤں
- 6۔ (a) آپیں (b) خراٹے (c) سسکیاں

5

☆ دیے گئے الفاظ کو جملوں میں استعمال کریں۔

- سال
- لوگ
- عمل
- دور
- رخصت

نوٹ: مندرجہ ذیل میں سے کوئی سے پانچ سوالات کے جوابات لکھیں۔

سوال نمبر 1: ”عام الحزن“ کا کیا مطلب ہے؟

جواب:

سوال نمبر 2: نماز ہم سب پر کیا ہے؟

جواب:

سوال نمبر 3: خلیفہ ہارون الرشید کس وجہ سے جانے جاتے تھے؟

جواب:

سوال نمبر 4: عاصمہ جب اسکول پہنچی تو طالبات اور استانی صاحبہ کہاں تھیں؟

جواب:

سوال نمبر 5: شہر پر حملہ کرنے والے تھے؟

جواب:

سوال نمبر 6: رافع اور سمرہ کی کشتی کا کیا نتیجہ نکلا؟

جواب:

سوال نمبر 7: وقت ضائع کرنے کے کیا کیا نقصانات ہو سکتے ہیں؟

جواب:

ENGLISH - CLASS THREE

Name: _____ Roll No: _____

School: _____

نوٹ: سوالات پرچے میں دی گئی جگہ پر ہی حل کریں۔ اضافی کاپی ہرگز مہیا نہیں کی جائے گی۔ معروضی میں کاٹ کر یا مٹا کر لکھے گئے جوابات غلط تصور ہوں گے۔

Total Marks	Obtained Marks	Grade	Remarks	Examiner Sign
50				

{Objective Type}

Q. No. 1: Fill in the blanks**10**

1. A naughty monkey lived in a _____.
2. There were many _____ in the pond.
3. Porters carry _____ on their heads.
4. The well had a lot of _____ in it.
5. Aslam was walking on the _____.

Q. No. 2: Tick (✓) the correct and cross (x) the false options.**10**

1. One day, Akbar and Faizan went to the pond for playing. ☐ ☐
2. "Take care! the bank is slippy." said Faizan. ☐ ☐
3. Aslam and Jamil were best friends. ☐ ☐
4. Jamil pour water on the burning fire. ☐ ☐
5. The moral of this story is: Do good have good. ☐ ☐

Q. No. 3: Make sentences.**10**

1. marsh _____
2. approach _____
3. peep _____
4. take _____
5. decide _____

Q. No. 4: Answer the following questions:

10

1. What did the boy try to make?

2. Where did the naughty monkey live?

3. Where was the big pond?

4. Who are standing there to get on the train?

5. Who are the two friends in this story?

6. Where did the frogs live?

7. Who were envy of each other?

Q. No. 5: Write five lines about "A Naughty Monkey".

10

SOCIAL STUDIES CLASS THREE

Name: _____ Roll No: _____

School: _____

نوٹ: سوالات پرچے میں دی گئی جگہ پر ہی حل کریں۔ اضافی کاپی ہرگز مہیا نہیں کی جائے گی۔ معروضی میں کاٹ کر یا مٹا کر لکھے گئے جوابات غلط تصور ہوں گے۔

Total Marks	Obtained Marks	Grade	Remarks	Examiner Sign
50				

{Objective Type}

Q. No. 1: Fill in the blanks:**10**

- _____ is a cash crop.
- The crops which are grown for food are called _____.
- Rice and sugarcane are _____ crops.
- Proper _____ of water are called canals.
- Only _____ percent is fresh water.

Q. No. 2: Choose correct answer:**5**

- Water is a _____ resource.
(a) good (b) bad (c) precious
- Many of the things we use in our daily life are made up of _____.
(a) stones (b) wood (c) metals
- Forests are the _____ of nature.
(a) heart (b) lungs (c) kidneys
- Trees give us:
(a) fruits (b) dry fruits (c) Both (a and b)
- _____ receives heavy rainfall due to forests.
(a) Lahore (b) Karachi (c) Murree

Q. No. 3: Tick (✓) for correct and (×) for false statement:**5**

- We need energy to run factories and houses.
- Canals and tube well are used for irrigation in Pakistan.
- Over 80% of Earth's surface is covered with water.
- Crops are grown in deserts.
- Coal, oil and gas are non-renewable resources.

Note: Answer the following question. (any five)

30

1. Where do the crops grow?

2. How much area of Pakistan is irrigatable?

3. Do most farmers of our country depend on the rain for irrigation?

4. What is mean by natural resources?

5. What are ores?

6. From where we get energy?

7. What are the uses of timber?

SCIENCE CLASS THREE

Name: _____ Roll No: _____

School: _____

نوٹ: سوالات پرچے میں دی گئی جگہ پر ہی حل کریں۔ اضافی کاپی ہرگز مہیا نہیں کی جائے گی۔ معروضی میں کاٹ کر یا مٹا کر لکھے گئے جوابات غلط تصور ہوں گے۔

Total Marks	Obtained Marks	Grade	Remarks	Examiner Sign
50				

{Objective Type}

Q. No. 1: Fill in the blanks:**5**

- Fishes have _____ shaped bodies.
- Reptiles have _____ and scaly skin.
- _____ forests are cool rainy areas.
- Desert is a very _____ and hot place.
- Position of an object can be changed by pulling or _____.

Q. No. 2: Choose correct answer:**10**

- _____ live in the water.
(a) Insects (b) Fishes (c) Reptiles
- Frog and turtle are examples of _____.
(a) mammals (b) reptiles (c) amphibians
- Ponds and rivers have _____.
(a) fresh water (b) cold water (c) salty water
- Cactus is found in _____.
(a) water (b) grassland (c) desert
- There is snow throughout year in _____.
(a) grassland (b) tundra habitat (c) desert habitat

Q. No. 3: Tick (✓) the correct statement and cross (×) the wrong one.**5**

- Air contains dust which is good for our health. ☐
- All living-things need air to live. ☐
- We must cover our face while sleeping. ☐
- We can change the position of an object. ☐
- The motion of a pendulum is to and fro. ☐

Note: Answer the following questions. (any five)

30

1. Give some names of reptiles.

2. What do you mean by habitat?

3. What does habitat provide?

4. What are water vapours?

5. How can we show that air occupies space?

6. Enlist the types of motion.

7. What is eclips?

COMPUTER - CLASS THREE

Name: _____ Roll No: _____

School: _____

نوٹ: سوالات پرچے میں دی گئی جگہ پر ہی حل کریں۔ اضافی کاپی ہرگز مہیا نہیں کی جائے گی۔ معروضی میں کاٹ کر یا مٹا کر لکھے گئے جوابات غلط تصور ہوں گے۔

Total Marks	Obtained Marks	Grade	Remarks	Examiner Sign
50				

{Objective Type}

Q. No. 1: Fill in the blanks:**5**

1. USB stands for _____.
2. DVD is better than _____.
3. There are _____ types of memory.
4. A _____ has icons, background, taskbar and menu bar.
5. _____ icon provides an acces to the different parts of computer.

Q. No. 2: Encircle the correct answer:**10**

1. _____ is a most common type of magnetic disk.
(a) hard disk (b) floppy disk (c) CD (d) DVD
2. Buses consist of _____ parts.
(a) two (b) three (c) five (d) six
3. _____ is the operating system for PC:
(a) MS windows (b) Icon (c) Desktop (d) GUI
4. "My computer" icon provides an _____ to the different parts of PC.
(a) introduction (b) access (c) alternate (d) all of these
5. After switching on the computer it starts processing and loading operating system known as _____.
(a) GUI (b) booting (c) desktop (d) windows

Q. No. 3: Write the names of the following.**5**

.....




.....



.....



.....



.....

Note: Answer the following questions of any five:

30

1. Define the processor.

2. What is the motherboard?

3. Define the USB.

4. What stands for OS?

5. What do you mean by MS Windows?

6. Define an operating system?

7. Name three modern windows versions.

MATHEMATICS - CLASS THREE

Name: _____ Roll No: _____

School: _____

نوٹ: سوالات پرچے میں دی گئی جگہ پر ہی حل کریں۔ اضافی کاپی ہرگز مہیا نہیں کی جائے گی۔ معروضی میں کاٹ کر یا مٹا کر لکھے گئے ہوئے جوابات غلط تصور ہوں گے۔

Total Marks	Obtained Marks	Grade	Remarks	Examiner Sign
50				

{Objective Type}

Q. No. 1: Place < or > in the fractions.**10**

a. $\frac{4}{7} \square \frac{3}{7}$

b. $\frac{4}{5} \square \frac{5}{9}$

c. $\frac{2}{9} \square \frac{4}{9}$

d. $\frac{1}{8} \square \frac{3}{8}$

e. $\frac{6}{7} \square \frac{2}{7}$

Q. No. 2: Write down two equivalent fractions of the given fractions:**4**

a. $\frac{4}{5} \square, \square$

b. $\frac{2}{3} \square, \square$

c. $\frac{6}{7} \square, \square$

d. $\frac{7}{11} \square, \square$

Q. No. 3: Write down two equivalent fractions of the given fractions:**6**

a. $\frac{8}{10} - \frac{2}{10} =$

b. $\frac{14}{17} - \frac{2}{17} =$

c. $\frac{3}{7} - \frac{1}{7} =$

d. $\frac{9}{13} - \frac{8}{13} =$

e. $\frac{5}{14} - \frac{2}{14} =$

f. $\frac{13}{21} - \frac{8}{12} =$

Q. No. 3: Find out the given fractions.**5**

a. $\frac{3}{4}$

b. $\frac{4}{5}$

Q. No. 4: Convert the given compound fractions into improper fractions.**5**

a. $3\frac{1}{2}$

b. $8\frac{3}{5}$

Q. No. 5: Solve these.

10

a.

H	T	O
2	3	4
×	1	2
<hr/>		

b.

H	T	O
3	4	5
×	3	4
<hr/>		

c.

H	T	O
4	5	5
×	8	8
<hr/>		

d.

H	T	O
3	4	5
×	4	5
<hr/>		

e.

H	T	O
5	4	3
×	7	3
<hr/>		

Q. No. 6: The price of one racket is Rs. 75. Find the cost of such 4 rackets.

5

Q. No. 7: If the cost of 5 pair of shoes is Rs. 2000. Find the price of such 10 pairs.

5

وقت 2:00 گھنٹے

امتحان: سیکنڈ ٹرم (رائٹ وے سیریز)

کلاس چہارم - پرچہ اسلامیات

نام طالب علم:

نام اسکول:

نوٹ: سوالات پرچے میں دی گئی جگہ پر ہی حل کریں۔ اضافی کاپی ہرگز مہیا نہیں کی جائے گی۔ حصہ معروضی میں کاٹ کر یا مٹا کر لکھے گئے جوابات غلط تصور ہوں گے۔

کل نمبر	حاصل کردہ نمبر	گریڈ	نتیجہ	دستخط ممتحن
50				

{ حصہ معروضی }

5

☆ خالی جگہیں پر کریں۔

- 1۔ عید الفطر اور کو عیدین کہتے ہیں۔
- 2۔ قربانی کے گوشت کے حصے کیے جاتے ہیں۔
- 3۔ صحابہ کرامؓ نے دین حق کے لیے برداشت کیں۔
- 4۔ نجاشی کا بادشاہ تھا۔
- 5۔ عید کی نماز میں پڑھتے ہیں۔

10

☆ درست جواب پر دائرہ (✓) لگائیں۔

- 1۔ عید الاضحیٰ 10 تاریخ کو ہوتی ہے۔
(a) شوال کی (b) ذوالحجہ کی (c) ربیع الاول کی
- 2۔ حضرت یاسرؓ کو شہید کیا:
(a) ابو جہل نے (b) ابولہب نے (c) ابوطالب نے
- 3۔ ”ہجرت“ کے لفظی معنی ہیں:
(a) ترک طعام (b) ترک گفتگو (c) ترک وطن
- 4۔ حبشہ کے بادشاہ کا نام تھا۔
(a) اصمہ (b) اصمہ (c) اصمہ
- 5۔ عربی زبان میں شعب کا معنی ہے:
(a) چٹان (b) گھاٹی (c) پہاڑ

5

☆ درست بیانات پر (✓) اور غلط بیانات پر (x) کا نشان لگائیں:

- 1۔ نماز عیدین میں جماعت کا ہونا شرط نہیں ہے۔
- 2۔ نماز عیدین سے پہلے اذان دی جاتی ہے۔
- 3۔ اہل مکہ آپ صلی اللہ علیہ وآلہ کے راستے میں کانٹے بچھاتے تھے۔
- 4۔ ابو جہل کی بیوی کا نام ام جمیل تھا۔
- 5۔ حضرت بلالؓ ابولہب کے غلام تھے۔

نوٹ: مندرجہ ذیل میں سے کوئی سے پانچ سوالات کے جوابات لکھیں۔

سوال نمبر 1: عیدین کسے کہتے ہیں؟

جواب:

سوال نمبر 2: مشرکین مکہ نبی کریم صلی اللہ علیہ وآلہ وسلم کے مخالف کیوں تھے؟

جواب:

سوال نمبر 3: ہجرت سے کیا مراد ہے؟

جواب:

سوال نمبر 4: نجاشی نے مسلمانوں کے لیے کیا فیصلہ کیا؟

جواب:

سوال نمبر 5: شعب ابی طالب سے کیا مراد ہے؟

جواب:

سوال نمبر 6: نبی کریم صلی اللہ علیہ وآلہ طائف کیوں تشریف لے گئے؟

جواب:

سوال نمبر 7: ”معراج“ سے کیا مراد ہے؟

جواب:

وقت 2:00 گھنٹے

امتحان: سیکنڈ ٹرم (رائٹ وے سیریز)

کلاس چہارم - پرچہ اردو

نام طالب علم:

نام اسکول:

نوٹ: سوالات پرچے میں دی گئی جگہ پر ہی حل کریں۔ اضافی کاپی ہرگز مہیا نہیں کی جائے گی۔ حصہ معروضی میں کاٹ کر یا مٹا کر لکھے گئے جوابات غلط تصور ہوں گے۔

کل نمبر	حاصل کردہ نمبر	گریڈ	نتیجہ	دستخط ممتحن
50				

{ حصہ معروضی }

5

☆ خالی جگہیں پر کریں۔

1۔ سعد پڑھائی میں تھا۔

2۔ ایک سوداگر کے پاس ایک خوب صورت تھا۔

3۔ سلطان نور الدین زنگی کا مزار میں ہے۔

4۔ اب ہوا کے تیز رک گئے

5۔ میں اپنی نئی بائیکل پر سارے میں چکر لگایا کروں گا۔

10

☆ درست جواب پر (✓) لگائیں۔

1۔ منیر کس جماعت میں پڑھتا تھا؟

(a) دوم (b) سوم (c) چہارم

2۔ سعد زیادہ وقت کیا کرتا تھا؟

(a) کھیلتا تھا (b) پڑھتا تھا (c) سوتا تھا

3۔ تجارت کے لیے کسی دوسرے ملک جانے لگا۔

(a) جولایا (b) بڑھئی (c) سوداگر

4۔ بادشاہ کس نماز کے بعد کثرت سے درود پڑھا کرتا تھا؟

(a) فجر (b) عصر (c) عشاء

5۔ صاحبو! یہ وقت ہے:

(a) آرام کا (b) سکون کا (c) سونے کا

5

☆ کالم الف کو اور کالم ب کے ہم معنی الفاظ ملائیں۔

کالم "ب"
دوسری پوزیشن
خوش تھے
سعد
بچے
منیر

کالم "الف"
بے قرار
پڑھائی میں کمزور
اساتذہ
خصوصی انعام
سعد نے حاصل کی

نوٹ: مندرجہ ذیل میں سے کوئی سے پانچ سوالات کے جوابات لکھیں۔

سوال نمبر 1: منیر کیسا طالب علم تھا؟

جواب:

سوال نمبر 2: سوداگر کہاں جا رہا تھا؟

جواب:

سوال نمبر 3: سلطان نور الدین زنگی نے خواب میں کیا دیکھا؟

جواب:

سوال نمبر 4: کوٹے صفیں بنا کر کس جانب اڑ گئے؟

جواب:

سوال نمبر 5: عمیر پیسے کیوں کر رہا تھا؟

جواب:

سوال نمبر 6: محترمہ فاطمہ جناح کب اور کہاں پیدا ہوئیں؟

جواب:

سوال نمبر 7: مردم شماری سے کیا مراد ہے؟

جواب:

ENGLISH - CLASS FOUR

Name: _____ Roll No: _____

School: _____

نوٹ: سوالات پرچے میں دی گئی جگہ پر ہی حل کریں۔ اضافی کاپی ہرگز مہیا نہیں کی جائے گی۔ معروضی میں کاٹ کر یا مٹا کر لکھے گئے جوابات غلط تصور ہوں گے۔

Total Marks	Obtained Marks	Grade	Remarks	Examiner Sign
50				

{Objective Type}

Q. No. 1: Fill in the blanks**10**

- Time is most precious than _____.
- _____ and _____ wait for none.
- _____ is the most important meal of the day.
- Aslam's hobby is _____.
- Kindness means the quality of being _____.

Q. No. 2: Tick (✓) the correct answer.**10**

- Time is _____
(a) money (b) speed (c) race
- Cakes, pastries and biscuits include in _____.
(a) dairy foods (b) sugary foods (c) healthy foods
- Breakfast keeps the children _____ for a long day, at school.
(a) lazy (b) active (c) intelligent
- We gain lot of _____ from book reading.
(a) knowledge (b) energy (c) income
- There is a small _____ of books in my home.
(a) library (b) cupboard (c) box

Q. No. 3: Make sentecens.**10**

- important _____
- fighter _____
- prepare _____
- collection _____
- gain _____

Q. No. 4: Answer the following questions:

10

1.

Can we regain the time?
2.

Write the famous idiom about time?
3.

What is importance of breakfast?
4.

What is the benefit of reading books?
5.

Which type of collection Aslam's aunt gifted him?
6.

Write the items of breakfast.
7.

Which foods are good for growing body and healthy bones?

Q. No. 5: Write five sentences using model adverb "should".

10

SOCIAL STUDIES - CLASS FOUR

Name: _____ Roll No: _____

School: _____

نوٹ: سوالات پرچے میں دی گئی جگہ پر ہی حل کریں۔ اضافی کاپی ہرگز مہیا نہیں کی جائے گی۔ معروضی میں کاٹ کر یا مٹا کر لکھے گئے جوابات غلط تصور ہوں گے۔

Total Marks	Obtained Marks	Grade	Remarks	Examiner Sign
50				

{Objective Type}

Q. No. 1: Fill in the blanks:**10**

- Trading means selling and _____.
- Pakistan imports _____ things.
- _____ development is very important for the progress of a country.
- We get wool from _____.
- Telephone was invented by _____.

Q. No. 2: Choose correct answer:**5**

- Import and export is _____ trading.
(a) national (b) international (c) domestic
- Pakistan imports:
(a) steel (b) rice (c) fruits
- Who was the ruler of Sindh.
(a) Tipu Sultan (b) Raja Dahir (c) Ranjeet Singh
- Arab trader were sailing to the coasts of:
(a) India (b) China (c) Afghanistan
- Who was the governor of Iraq?
(a) Hajaj Bin Yousaf (b) Abdul Aziz (c) Walid

Q. No. 3: Tick (✓) for correct and (×) for false statement:**5**

- Debal was located near Mumbai.
- Muhammad Bin Qasim was nephew of governor Hajaj Bin Yousaf.
- Muhammad Bin Qasim was not a brave leader.
- Then the Arab marched along the Indus valley.
- Sindh divided into two Muslim independent states in 864.

Note: Answer the following question. (any five)

30

1. What is meant by trade?

2. Which are two parts of international trade?

3. Where are the flour mills located in Pakistan?

4. What does communication mean?

5. What does E-mail stand for?

6. When did Islam spread Westwards from Makkah?

7. Who was Muhammad Bin Qasim?

SCIENCE CLASS FOUR

Name: _____ Roll No: _____

School: _____

نوٹ: سوالات پرچے میں دی گئی جگہ پر ہی حل کریں۔ اضافی کاپی ہرگز مہیا نہیں کی جائے گی۔ معروضی میں کاٹ کر یا مٹا کر لکھے گئے جوابات غلط تصور ہوں گے۔

Total Marks	Obtained Marks	Grade	Remarks	Examiner Sign
50				

{Objective Type}

Q. No. 1: Fill in the blanks:**10**

- Pollen grains contain male sex sells called _____.
- _____ or insects carry pollen grains to the stigma.
- We should plant more _____.
- We should dispose off _____ properly.
- Birds can see _____ from very great _____.

Q. No. 2: Choose correct answer:**3**

- Which things causes clogging of water bodies.
(a) Dust (b) Polythene (c) Plants
- Thick ugly clouds of smoke emerge from:
(a) Vehicles (b) Kitchens (c) factory chimneys
- Substance that pollute were come from:
(a) industries (b) farms (c) both

Q. No. 3: Tick (✓) for correct and (×) for false:**7**

- A fish is covered with scales. ☐
- Some birds build their nests out of things. ☐
- Liquids flow downwards. ☐
- Gases can be seen. ☐
- Gases have definite shapes ☐
- An electric bell runs with electrical energy. ☐
- Water energy is used to run windmill. ☐

Note: Answer the following questions. (any five)

30

1. What is environment?

2. What is mean by pollution?

3. What is mean by habitat?

4. Define solid state?

5. What is the shape of a liquid?

6. What is the use of Iron?

7. What is reflection?

COMPUTER - CLASS FOUR

Name: _____ Roll No: _____

School: _____

نوٹ: سوالات پرچے میں دی گئی جگہ پر ہی حل کریں۔ اضافی کاپی ہرگز مہیا نہیں کی جائے گی۔ معروضی میں کاٹ کر یا مٹا کر لکھے گئے جوابات غلط تصور ہوں گے۔

Total Marks	Obtained Marks	Grade	Remarks	Examiner Sign
50				


{Objective Type}

Q. No. 1: Fill in the blanks:**5**

1. A computer is nothing without a _____.
2. Computer programs are written in _____.
3. Problem solving is a process to solve different types of _____.
4. _____ is a step by step procedure to solve a problem.
5. Start button and clock are on the _____.

Q. No. 2: Encircle the correct answer:**10**

1. A _____ is designed after understanding the problems.
(a) code (b) program (c) language (d) commands
2. _____ is popular in business field.
(a) FORTRAN (b) COBOL (c) PASCAL (d) C
3. _____ is also used to calculations and data processing.
(a) flowchart (b) algorithm (c) both a & b (d) None
4. _____ is also a problem solving activity.
(a) solution (b) instructions (c) data (d) programming
5. To start a program in windows XP, we click on _____.
(a) taskbar (b) title bar (c) start button (d) help

Q. No. 3: Label the following symbols of flowchart.**5**

Note: Answer the following questions of any five:

30

1. Define programming language.

2. What are low level languages?

3. What do you mean by problem solving?

4. What is a flowchart?

5. Define Windows XP.

6. What is a screen saver?

7. What is a wallpaper?

MATHEMATICS - CLASS FOUR

Name: _____ Roll No: _____

School: _____

نوٹ: سوالات پرچے میں دی گئی جگہ پر ہی حل کریں۔ اضافی کاپی ہرگز مہیا نہیں کی جائے گی۔ معروضی میں کاٹ کر یا مٹا کر لکھے گئے جوابات غلط تصور ہوں گے۔

Total Marks	Obtained Marks	Grade	Remarks	Examiner Sign
50				

{Objective Type}

Q. No.1: Write given mixed numbers as decimal numbers.**5**

a. $3\frac{5}{10} =$ _____ b. $15\frac{1}{10} =$ _____

c. $23\frac{4}{10} =$ _____ d. $31\frac{7}{10} =$ _____

e. $34\frac{8}{10} =$ _____

Q. No. 2: Write given mixed numbers as decimal numbers.**5**

a. $3\frac{5}{10} =$ _____ b. $15\frac{1}{10} =$ _____

c. $23\frac{4}{10} =$ _____ d. $31\frac{7}{10} =$ _____

e. $34\frac{8}{10} =$ _____

Q. No. 3: Solve the following decimal numbers.**2**

a.
$$\begin{array}{r} 33.6 \\ + 22.2 \\ \hline \end{array}$$

b.
$$\begin{array}{r} 14.3 \\ + 11.4 \\ \hline \end{array}$$

c.
$$\begin{array}{r} 18.4 \\ + 41.3 \\ \hline \end{array}$$

d.
$$\begin{array}{r} 39.8 \\ - 24.7 \\ \hline \end{array}$$

e.
$$\begin{array}{r} 41.3 \\ - 24.5 \\ \hline \end{array}$$

f.
$$\begin{array}{r} 82.3 \\ - 37.9 \\ \hline \end{array}$$

Q. No. 4: Encircle the numbers which are factors of 20.**4**

1 2 3 4 5 6 7 8 9 10

Q. No. 5: Find common factors of:		6
a.	12 and 20	
b.	16 and 20	
c.	18 and 28	
Q. No. 6: Find H.C.F of:		12
a.	12 and 16	
	<hr/>	
	<hr/>	
b.	30 and 50	
	<hr/>	
	<hr/>	
Q. No. 7: Find L.C.M of:		4
a.	6 and 9	
	<hr/>	
	<hr/>	
b.	12 and 18	
	<hr/>	
	<hr/>	
	<hr/>	
Q. No. 8: Write down these percentage as 4 decimal numbers.		4
a.	25%	
b.	67%	
Q. No. 9: Find profit or loss in following question		4
	CP = Rs. 150	CP = Rs. 4.450
	SP = Rs. 225	SP= Rs. 3450

کلاس پنجم - پرچہ اسلامیات

نام طالب علم:

نام اسکول:

نوٹ: سوالات پرچے میں دی گئی جگہ پر ہی حل کریں۔ اضافی کاپی ہرگز مہیا نہیں کی جائے گی۔ حصہ معروضی میں کاٹ کر یا مٹا کر لکھے گئے جوابات غلط تصور ہوں گے۔

کل نمبر	حاصل کردہ نمبر	گریڈ	نتیجہ	دستخط ممتحن
50				

{ حصہ معروضی }

☆ خالی جگہیں پر کریں۔ 5

- 1- رسول اللہ صلی اللہ علیہ وآلہ وسلم نے انس رضی اللہ عنہ کے مکان پر صحابہ کرامؓ کو جمع فرمایا۔
- 2- انصار زبان کا تلفظ ہے۔
- 3- ناصر کے معنی کے ہیں۔
- 4- مشرکین کے لشکر میں گھوڑے تھے۔
- 5- اسلامی لشکر میں گھوڑے تھے۔

☆ درست جواب پر (✓) لگائیں۔ 10

- 1- مدینہ کے رہنے والوں کو کہا جاتا ہے:
 - (a) انصار
 - (b) مہاجرین
 - (c) انصار و مہاجرین
- 2- مواخات کے معنی ہیں:
 - (a) رواداری کے
 - (b) بھائی بندی کے
 - (c) بھائی چارے کے
- 3- بدر نام کا گاؤں مدینہ سے فاصلے پر ہے:
 - (a) ستر میل کے
 - (b) اسی میل کے
 - (c) نوے میل کے
- 4- غزوہ بدر سے پہلے رسول اللہ صلی اللہ علیہ وآلہ نے حضرت عبداللہ بن جحشؓ کی قیادت میں بطن نخلہ کی طرف ایک جماعت روانہ فرمائی:
 - (a) ۱۲ آدمیوں کی
 - (b) ۱۴ آدمیوں کی
 - (c) ۱۶ آدمیوں کی
- 5- کفار اور مسلمانوں کے لشکر آمنے سامنے آ گئے ۱۷ رمضان:
 - (a) ۱ ہجری کو
 - (b) ۲ ہجری کو
 - (c) ۳ ہجری کو

☆ درست بیانات پر (✓) اور غلط بیانات پر (x) کا نشان لگائیں: 5

- 1- دین کی خاطر گھر بار چھوڑ کر ہجرت کر جانے والے مسلمانوں کو مہاجرین کہا جاتا ہے۔
- 2- معاذؓ اور معوذؓ کے ہاتھوں ابو جہل قتل ہوا۔
- 3- غزوہ بدر میں 60 کفار قتل ہوئے۔
- 4- وحشی نے حضرت حمزہؓ کو شہید کیا۔
- 5- غزوہ احزاب کے تین نام ہیں۔

☐
☐
☐
☐
☐

نوٹ: مندرجہ ذیل میں سے کوئی سے پانچ سوالات کے جوابات لکھیں۔

سوال نمبر 1: مواخات سے کیا مراد ہے؟

جواب:

سوال نمبر 2: غزوہ کسے کہتے ہیں؟

جواب:

سوال نمبر 3: غزوہ بدر کے اسباب کیا تھے؟

جواب:

سوال نمبر 4: غزوہ احد کے اسباب کیا تھے؟

جواب:

سوال نمبر 5: غزوہ احزاب کو غزوہ احزاب کیوں کہا جاتا ہے؟

جواب:

سوال نمبر 6: کتنے دن میں خندق کا کام مکمل ہوا؟

جواب:

سوال نمبر 7: غزوہ احزاب کا نتیجہ کیا رہا؟

جواب:

کلاس پنجم - پرچہ اردو

نام طالب علم:

نام اسکول:

نوٹ: سوالات پرچے میں دی گئی جگہ پر ہی حل کریں۔ اضافی کاپی ہرگز مہیا نہیں کی جائے گی۔ حصہ معروضی میں کاٹ کر یا مٹا کر لکھے گئے جوابات غلط تصور ہوں گے۔

کل نمبر	حاصل کردہ نمبر	گریڈ	نتیجہ	دستخط ممتحن
50				

{ حصہ معروضی }

☆ خالی جگہیں پر کریں۔ 5

1- نادیہ سب سے تھی۔

2- ہر کی اپنی اہمیت اور تاریخی پس منظر ہوتا ہے۔

3- نظارے رہے.....

4- اردو کا شمار دنیا کی زبانوں میں ہوتا ہے۔

5- ہوائی جہاز کی ایجاد میں ہوا کے گرم ہو کر اٹھنے کے اصول کو کام میں لایا گیا۔

☆ درست جواب پر (✓) لگائیں۔ 10

1- نادیہ جماعت میں پڑھتی تھی۔

(a) چھوٹی (b) پانچویں (c) چھٹی

2- مسلمان عید الفطر پہلی تاریخ کو مناتے ہیں:

(a) شوال کی (b) رجب (c) ذیقعد کی

3- اردو کا استعمال روز بروز بڑھ رہا ہے:

(a) بجلی میں (b) کمپیوٹر میں (c) انجنیئرنگ میں

4- رائٹ برادران ایک چھوٹے سے شہر میں رہتے تھے:

(a) برطانیہ کے (b) امریکا کے (c) افریقہ کے

5- حضرت حذیقہ بادشاہ کو خواب میں ملتے رہے:

(a) دودن تک (b) تین دن تک (c) چار دن تک

☆ درست بیانات پر (✓) اور غلط بیانات پر (x) کا نشان لگائیں: 5

1- نادیہ کے تمام بہن بھائی اسکول جاتے تھے۔

2- عید کے روز مسلمان گھر سے کوئی میٹھی چیز کھا کر عید گاہ کی طرف جاتے ہیں۔

3- اردو بولنے اور سمجھنے والوں کی زیادہ تعداد بنگال اور ایران میں رہتی ہے۔

4- بعض اوقات انسانی مشاہدہ کسی ایجاد کا باعث بن جاتا ہے۔

5- شاہ عراق کو مسلسل سات رات تک ایک ہی خواب آتا رہا۔

☐
☐
☐
☐
☐

نوٹ: مندرجہ ذیل میں سے کوئی سے پانچ سوالات کے جوابات لکھیں۔

سوال نمبر 1: نادیہ کس جماعت میں پڑھتی تھی؟

جواب:

سوال نمبر 2: مسلمانوں کے اہم مذہبی تہوار کون کون سے ہیں؟

جواب:

سوال نمبر 3: تارے کس سے ڈر رہے تھے؟

جواب:

سوال نمبر 4: ہماری قومی زبان کون سی ہے؟

جواب:

سوال نمبر 5: تعلیمی اداروں میں اردو پڑھانے کا مقصد کیا ہے؟

جواب:

سوال نمبر 6: اللہ تعالیٰ نے انسان کو کیسی صلاحیتوں سے نوازا ہے؟

جواب:

سوال نمبر 7: شاہ عراق نے سلمان پارک میں کن ہستیوں کے مزارات منتقل کرنے کا اعلان کیا؟

جواب:

ENGLISH - CLASS FIVE

Name: _____ Roll No: _____

School: _____

نوٹ: سوالات پرچے میں دی گئی جگہ پر ہی حل کریں۔ اضافی کاپی ہرگز مہیا نہیں کی جائے گی۔ معروضی میں کاٹ کر یا مٹا کر لکھے گئے جوابات غلط تصور ہوں گے۔

Total Marks	Obtained Marks	Grade	Remarks	Examiner Sign
50				

{Objective Type}

Q. No. 1: Fill in the blanks**5**

- Leaves of trees and plants in autumn.
- People wear clothes in winter.
- Summer comes after
- Leaves of trees shake when the is slowing.
- Strong wind branches of trees as well.

Q. No. 2: Write the following numbers in words.**10**

307	_____	101	_____
289	_____	765	_____
208	_____	803	_____
913	_____	907	_____
500	_____	510	_____

Q. No. 3: Use capital letters where necessary.**5**

- I love pakistan. _____
- I read a poem "the wind". _____
- My name is aslam. _____
- she drinks milk. _____
- he went to school. _____

Q. No. 4: Use following words in sentences.**5**

- study _____
- hardworking _____
- sure _____
- important _____
- base _____

Q. No. 4: Answer the following questions:

15

1. Tell something about Akbar?

2. In which class does Alyas read?

3. How many seasons are there in a year?

4. Write down names of the season of the year.

5. In which season do people wear warm clothes?

6. Who happened to come to Lahore?

7. Who has seen the wind?

Q. No. 5: Write a paragraph on "Four Seasons of Pakistan".

10

SOCIAL STUDIES-CLASS FIVE

Name: _____ Roll No: _____

School: _____

نوٹ: سوالات پرچے میں دی گئی جگہ پر ہی حل کریں۔ اضافی کاپی ہرگز مہیا نہیں کی جائے گی۔ معروضی میں کاٹ کر یا مٹا کر لکھے گئے ہونے
جوابات غلط تصور ہوں گے۔

Total Marks	Obtained Marks	Grade	Remarks	Examiner Sign
50				

{Objective Type}

Q. No. 1: Fill in the blanks:**10**

- The members of provincial assembly are called _____.
- Our parliament _____ of two houses.
- In _____ the first census was held in sub-continent.
- The _____ and the last census of Pakistan was held in 1998.
- The solve small legal matters there is a _____ court.

Q. No. 2: Tick (✓) for correct and (×) for false statement:**5**

- MNA's make the laws and approve the budgets.
- The census is held after twenty years.
- Two things are required to acquire knowledge of any country.
- The hospitals are established in order to get justice.
- High court is the highest court in the province.

Q. No. 3: Match the columns.**5**

Column A
The laws and rules
The Supreme Court
There are three kinds
The legal system of the country
We should obey

Column B
is situated in Islamabad
of courts
punish criminals according to law
the laws of the country
looks after the rule of law in the country

Note: Answer the following question. (any five)

30

1. What do you know about president?

2. How many parts of our parliament are there?

3. What is meant by population?

4. When was the first census held in Pakistan?

5. Which is the apex court of Pakistan?

6. What do the lawyers of the prosecution do?

7. Who decides the punishment of the guilty person?

SCIENCE - CLASS FIVE

Name: _____ Roll No: _____

School: _____

نوٹ: سوالات پرچے میں دی گئی جگہ پر ہی حل کریں۔ اضافی کاپی ہرگز مہیا نہیں کی جائے گی۔ معروضی میں کاٹ کر یا مٹا کر لکھے گئے جوابات غلط تصور ہوں گے۔

Total Marks	Obtained Marks	Grade	Remarks	Examiner Sign
50				

{Objective Type}

Q. No. 1: Fill in the blanks:**10**

- Some fuels _____ when these are burnt, the sulphur and nitrogen from the air combine with oxygen to form _____.
- Lack of _____ causes a disease called Kwashiorkor.
- The human body has its own way of fighting system called _____.
- Wild animals eat _____ plants and die.
- Polluted air is dangerous to _____.

Q. No. 2: Name five luminous things.**5**

- _____
- _____
- _____
- _____
- _____

Q. No. 3: Tick (✓) for correct and (×) for false.**5**

- The phases of the moon are caused when the shadow of the earth falls on the moon. ☐
- Force can pull or push any body. ☐
- The umbra is a very dark shadow with sharp edges. ☐
- Dead plants are biodegradable. ☐
- Gravitational force pulls every thing toward earth. ☐

Note: Answer the following questions. (any five)

30

1. What is environment?

2. Which things are that can be done by using force?

3. What kind of materials are translucent?

4. What do you understand by the world transparent?

5. Are shadow longer in the morning than the midday?

6. What force is exerted on you when you pulls against a brick wall?

7. Name five items which you waste or throw away at home.

COMPUTER - CLASS FIVE

Name: _____ Roll No: _____

School: _____

نوٹ: سوالات پرچے میں دی گئی جگہ پر ہی حل کریں۔ اضافی کاپی ہرگز مہیا نہیں کی جائے گی۔ معروضی میں کاٹ کر یا مٹا کر لکھے گئے جوابات غلط تصور ہوں گے۔

Total Marks	Obtained Marks	Grade	Remarks	Examiner Sign
50				

{Objective Type}

Q. No. 1: Fill in the blanks:**5**

- Computer is an _____ machine.
- A computer program is a series of _____.
- COBOL stands for _____.
- The internet is also called _____.
- Internet explorer is the default _____.

Q. No. 2: Encircle the correct answer:**10**

- Computer needs _____.
(a) program (b) language (c) both a & b
- A computer programmer is also called a _____.
(a) inventor (b) explorer (c) developer
- Web page is an electronic _____.
(a) folder (b) document (c) program
- You can creat account on _____.
(a) Yahoo (b) msn (c) G-mail
- E-mail is used to send _____.
(a) text (b) photos (c) heavy files

Q. No. 3: Tick (✓) for correct and (×) for false:**5**

- Computer has its own language. ☐
- There are three types of language. ☐
- Machine language is known as the first generation of programming language. ☐
- Internet is also called language. ☐
- Internet explorer is a default browser. ☐

Note: Answer the following questions of any five:

30

1. What is computer program?

2. Write a note on machine language.

3. Write a note on COBOL.

4. What is Internet?

5. Write a note on E-mail.

6. How internet connection is setup?

7. How account is created and email is sent?

MATHEMATICS - CLASS FIVE

Name: _____ Roll No: _____

School: _____

نوٹ: سوالات پرچے میں دی گئی جگہ پر ہی حل کریں۔ اضافی کاپی ہرگز مہیا نہیں کی جائے گی۔ معروضی میں کاٹ کر یا مٹا کر لکھے گئے ہوئے جوابات غلط تصور ہوں گے۔

Total Marks	Obtained Marks	Grade	Remarks	Examiner Sign
50				

{Objective Type}

Q. No. 2: Write the following in expanded decimal form:**5**

a. $7.013 =$ _____

b. $21.983 =$ _____

c. $0.35 =$ _____

d. $263.805 =$ _____

e. $15.024 =$ _____

Q. No. 2: Express the following fractions as decimals:**10**

a. $\frac{5}{10}$

b. $\frac{17}{100}$

c. $\frac{19}{1000}$

d. $\frac{475}{1000}$

Q. No. 3: Solve the following.**10**

a. $25 + 2.5 + 0.25 + 0.025$

b. $19 - 0.00896$

c. $6 + 0.46 - 0.464 + 0.064$

d. $14 - 0.08765$

e. $5\frac{1}{10} + 3\frac{1}{2} + -2\frac{1}{2} - \frac{3}{5}$

Q. No. 4: The cost of 8 steel rods is Rs. 7589.44. Find the cost of 1 steel rod. 5

Q. No. 5: Change into percent. 5

a. $\frac{1}{2}$

b. $\frac{1}{4}$

c. $\frac{1}{8}$

d. 0.75

e. 0.25

Q. No. 6: (a) 5 boy in class of 50 were absent on a certain day. What percentage of the boys were present that day? 5

b. The average of five numbers is 14 four numbers are as 13,14, 14 and 16. Find the fifth numbers. 5.