

وقت 2:00 گھنٹے

امتحان: تھرڈ ٹرم (رائٹ وے سیریز)

## پرچہ اُردو۔ نرسری

نام طالب علم:..... رول نمبر:.....

نام اسکول:.....

نوٹ: سوالات پرچے میں دی گئی جگہ پر ہی حل کریں۔ اضافی کاپی ہرگز مہیا نہیں کی جائے گی۔ معروضی میں کاٹ کر یا مٹا کر لکھے گئے جوابات غلط تصور ہوں گے۔

کل نمبر	حاصل کردہ نمبر	گریڈ	نتیجہ	دستخط ممتحن
50				

سوال نمبر: ۱۔ پڑھائی۔ 10

سوال نمبر: ۲۔ مکمل حروف تہجی لکھیں۔ 10


سوال نمبر: ۳۔ تصویر دیکھیں اور نام لکھیں۔ 5



سوال نمبر: ۴۔ جوڑ کے توڑ لکھیں۔ 10

زیور \_\_\_\_\_

پہاڑ \_\_\_\_\_

گاڑی \_\_\_\_\_


زرافہ \_\_\_\_\_

رومال \_\_\_\_\_

سوال نمبر: ۵ تصاویر کے نام کے پہلے حرف کے گرد دائرہ لگائیں۔



ص ا ش



ض ش س



ش س ص

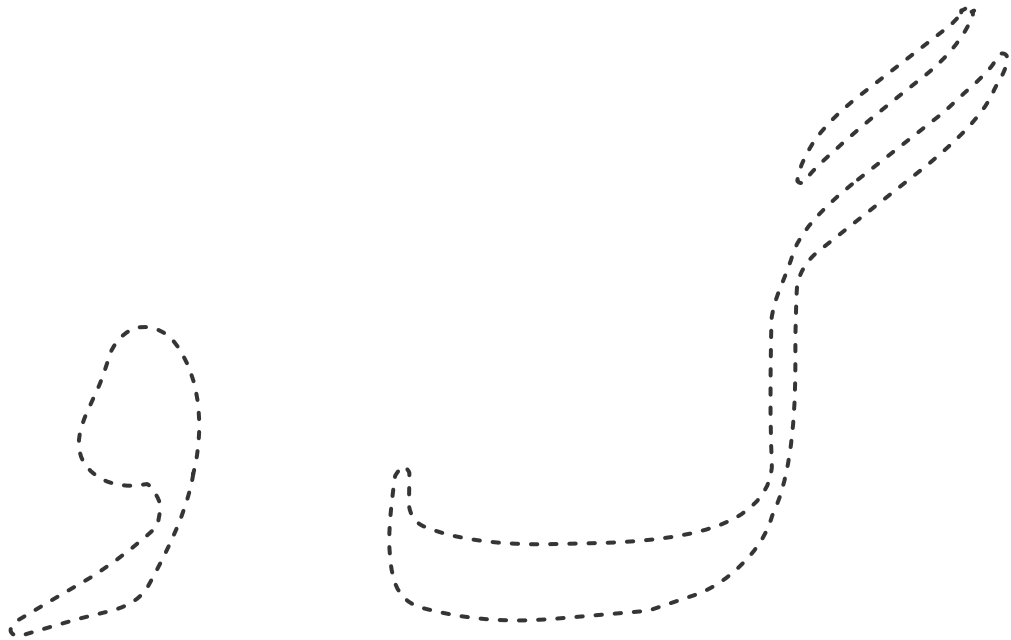


ف گ ش



ص ش س

سوال نمبر: ۶ حروف پر پنسل پھیریں اور رنگ بھریں۔



# English - Prep

Student's Name: \_\_\_\_\_ Roll No: \_\_\_\_\_

School Name: \_\_\_\_\_



نوٹ: سوالات پرچے میں دی گئی جگہ پر ہی حل کریں۔ اضافی کاپی ہرگز مہیا نہیں کی جائے گی۔ معروضی میں کاٹ کر یا مٹا کر لکھے گئے جوابات غلط تصور ہوں گے۔



Total Marks	Obtained Marks	Grade	Remarks	Examiner Sign
50				



Q.No:1.Reading. 10



Q.No:2. Write the alphabet a to z. 10


Q.No:3. Write the masculine and feminine. 10









Q.No:3. Writ the names of parts of body. 10

Q.No:4. Circle the opposites in each group. 10

1

Up

Right

Down

2

Sad

Happy

Cold

3

Hot

In

Cold

4

Old

New

Out

5

In

Out

Down

Q.No:5. Write an essay on “My Cassroom”. 10

---

---

---

---

---

---

---

---

---

---



# Mathematics - Playgroup

Student's Name: \_\_\_\_\_ Roll No: \_\_\_\_\_

School Name: \_\_\_\_\_

نوٹ: سوالات پرچے میں دی گئی جگہ پر ہی حل کریں۔ اضافی کاپی ہرگز مہیا نہیں کی جائے گی۔ معروضی میں کاٹ کر یا مٹا کر لکھے گئے جوابات غلط تصور ہوں گے۔

Total Marks	Obtained Marks	Grade	Remarks	Examiner Sign
50				

Q.No:1.Oral. 10

Q.No:2. Write the counting 5 to 15. 10


Q.No:3.Tick (✓) the following. 10


 Tick the taller object .



 Tick the shorter object.







 Tick the bigger object.



 Tick the smaller object .



Q.No:4. Match the pictures with their relevant names. 10



Triangle





Circle

Rectangle

Square



Q.No:5. What comes next? Tick (✓) the correct one. 10



وقت 2:00 گھنٹے

امتحان: تھرڈ ٹرم (رائٹ ویس سیریز)

## پرچہ اُردو۔ پلے گروپ

نام طالب علم:

رول نمبر:

نام اسکول:

نوٹ: سوالات پرچے میں دی گئی جگہ پر ہی حل کریں۔ اضافی کاپی ہرگز مہیا نہیں کی جائے گی۔ معروضی میں کاٹ کر یا مٹا کر لکھے گئے جوابات غلط تصور ہوں گے۔

کل نمبر	حاصل کردہ نمبر	گریڈ	نتیجہ	دستخط ممتحن
50				

سوال نمبر: ۱۔ پڑھائی۔

10

سوال نمبر: ۲۔ حروف تہجی لکھیں۔

10


10

سوال نمبر: ۳۔ تصویر کا پہلا حرف لکھیں۔



\_\_\_\_\_



\_\_\_\_\_



\_\_\_\_\_

\_\_\_\_\_

ط .



س .



ظ .



ع .



غ .



ض .



ص .



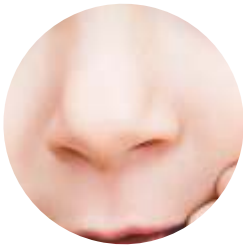
ش .
















# English - Nursery

Student's Name: \_\_\_\_\_ Roll No: \_\_\_\_\_

School Name: \_\_\_\_\_

نوٹ: سوالات پرچے میں دی گئی جگہ پر ہی حل کریں۔ اضافی کاپی ہرگز مہیا نہیں کی جائے گی۔ معروضی میں کاٹ کر یا مٹا کر لکھے گئے جوابات غلط تصور ہوں گے۔

Total Marks	Obtained Marks	Grade	Remarks	Examiner Sign
50				

Q.No:1. Write the alphabet a to z. 10


Q.No:2. Write the capital and small letter of each picture. 10



Q.No:3. Write the names of given fruits. 10



\_\_\_\_\_

\_\_\_\_\_

\_\_\_\_\_








\_\_\_\_\_

\_\_\_\_\_



Q.No:4. Write the name of each picture.

10

		
<div></div>	<div></div>	<div></div>
		
<div></div>	<div></div>	

Q.No:5. Match the pictures with the words.

10

	Vase	
	Zip	
	Xylophone	
	Utensils	
	Yarn	
	Watch	

# Mathematics - Nursery

Student's Name: \_\_\_\_\_ Roll No: \_\_\_\_\_

School Name: \_\_\_\_\_

نوٹ: سوالات پرچے میں دی گئی جگہ پر ہی حل کریں۔ اضافی کاپی ہرگز مہیا نہیں کی جائے گی۔ معروضی میں کاٹ کر یا مٹا کر لکھے گئے جوابات غلط تصور ہوں گے۔

Total Marks	Obtained Marks	Grade	Remarks	Examiner Sign
50				

Q.No:1. Write counting 1 to 20. 10


Q.No:2. Write the number names of the numbers. 10

	1		2		3
	4		5		


Q.No:3. Add and write the correct answer. 5

3 + 3	5 + 3	1 + 1	3 + 2	4 + 3

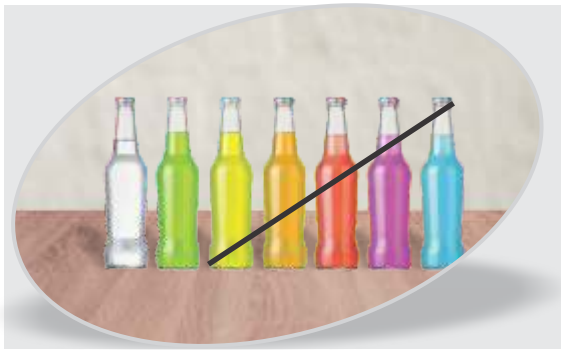
Q.No:4. Subtract and write the correct number. 5

8 - 3	3 - 1	4 - 2	7 - 6	6 - 5

Q.No:5. Tick (✓) the relevant pictures.



**Q.No:6. Subtract and write the correct number.**



7	—	5	=	2
---	---	---	---	---

Q.No:7. Write the numbers 4 to 10 in ascending order.



Q.No:8. Write the numbers 18 to 12 in descending order.





## پرچہ اُردو - پریپ

نام طالب علم:

رول نمبر:

نام اسکول:

نوٹ: سوالات پرچے میں دی گئی جگہ پر ہی حل کریں۔ اضافی کاپی ہرگز مہیا نہیں کی جائے گی۔ معروضی میں کاٹ کر یا مٹا کر لکھے گئے جوابات غلط تصور ہوں گے۔

کل نمبر	حاصل کردہ نمبر	گریڈ	نتیجہ	دستخط ممتحن
50				

سوال نمبر: ۱۔ پڑھائی۔

10

سوال نمبر: ۲۔ حروف پر 'زیر' لگائیں۔

10

ا ب پ ت ٹ ث ج چ ح  
 خ د ڈ ذ ر ر ٹ ز ژ س  
 ش ص ض ط ظ ع غ ف ق  
 ک گ ل م ن و ہ ء ی

سوال نمبر: ۳ تصویر کو ابتدائی حرف سے ملائیں۔

5



ط گ ع  
 ل ف ن



10

سوال نمبر: ۴۔ چار حرفی الفاظ کو سادہ جملوں میں استعمال کریں۔

گائے \_\_\_\_\_ کھانا \_\_\_\_\_

چاقو \_\_\_\_\_ جھاڑو \_\_\_\_\_

کھولا \_\_\_\_\_

5

سوال نمبر: ۵۔ ’ی‘ کے مرکب والے الفاظ لکھیں۔

\_\_\_\_\_

\_\_\_\_\_

10

سوال نمبر: ۶۔ درج ذیل مذکر کے مونث لکھیں۔

_____	مور	_____	ابو
_____	بکرا	_____	دادا
_____	مرغا	_____	نانا
_____	توتا	_____	چچا
_____	خالو	_____	لڑکا

# English - Playgroup

Student's Name: \_\_\_\_\_ Roll No: \_\_\_\_\_

School Name: \_\_\_\_\_

نوٹ: سوالات پرچے میں دی گئی جگہ پر ہی حل کریں۔ اضافی کاپی ہرگز مہیا نہیں کی جائے گی۔ معروضی میں کاٹ کر یا مٹا کر لکھے گئے جوابات غلط تصور ہوں گے۔

Total Marks	Obtained Marks	Grade	Remarks	Examiner Sign
50				

Q.No:1.Reading. 10

Q.No:2. Tick (✓) the correct word of each picture. 10



QUILT

PANDA



SPARROW

RING



TIGER

TOP



TIGER

RING



PANDA

ROSE

Q.No:3. Match the pictures with their relevant opposites. 10



ZIP

WATERMELON




WATCH

YARN



Q.No:4. Write the first letter of each picture.

10



Q.No:6 Match the letters with the relevant pictures.

10



w



x



u



y



v



z



# Mathematics - Prep

Student's Name: \_\_\_\_\_ Roll No: \_\_\_\_\_

School Name: \_\_\_\_\_

نوٹ: سوالات پرچے میں دی گئی جگہ پر ہی حل کریں۔ اضافی کاپی ہرگز مہیا نہیں کی جائے گی۔ معروضی میں کاٹ کر یا مٹا کر لکھے گئے جوابات غلط تصور ہوں گے۔

Total Marks	Obtained Marks	Grade	Remarks	Examiner Sign
50				

Q.No:1. Write counting 20 to 50. 10



Q.No:2. Solve the following. 5

3	4	5	4	4
$+$ 4	$+$ 3	$+$ 4	$+$ 1	$+$ 0
_____	_____	_____	_____	_____

Q.No:3. Solve the following. 5

3	7	4	7	4
$-$ 1	$-$ 2	$-$ 2	$-$ 3	$-$ 1
_____	_____	_____	_____	_____


Q.No:4 Count and write. 10



\_\_\_\_\_

Plus


$+$



\_\_\_\_\_

$=$

Is equal to




\_\_\_\_\_



Q.No:5

Tick (✓) the taller objects.

5



Q.No:6

Tick (✓) the numbers greater than 15.

5



Q.No:7

Tick (✓) the numbers less than 33.

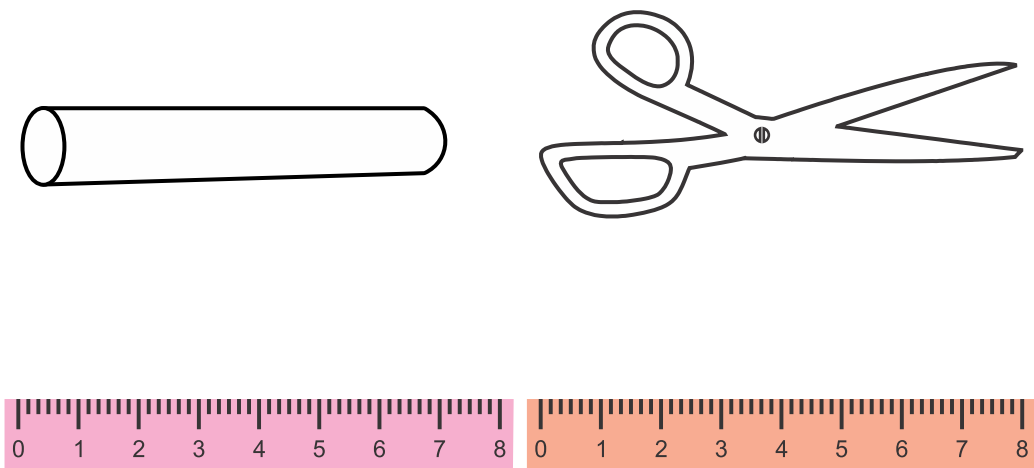
5



Q.No:8

Measure and colour the longer object.

5



MATHEMATICS - CLASS ONE

Student's Name: \_\_\_\_\_ Roll No: \_\_\_\_\_

School Name: \_\_\_\_\_


نوٹ: سوالات پرچے میں دی گئی جگہ پر ہی حل کریں۔ اضافی کاپی ہرگز مہیا نہیں کی جائے گی۔ معروضی میں کاٹ کر یا مٹا کر لکھے گئے جوابات غلط تصور ہوں گے۔

Total Marks	Obtained Marks	Grade	Remarks	Examiner Sign
50				

Q.No:1. Counting 50 to 100. 10

Q.No:2. Wite the value of these coins and notes. 10

●




+




=

Rs.

●




+




=

Rs.

●




+




=

Rs.


●



+




+



=

Rs.

●



+



=

Rs.

Q.No:3. Match the things which can be purchased from given money in the last column. 10

●



Rs.30

+



Rs.40

●



Rs.15

+



Rs.15

●



Rs.15

+



Rs.35

●



Rs.20

+



Rs.70

+



Rs.10









Q.No:4. Write the numbers in words from 1 to 10

05



Q.No:5. Subtract and match the answer.

10

9 – 1	●	●	
7 – 2	●	●	
5 – 3	●	●	
4 – 1	●	●	
2 – 1	●	●	
8 – 4	●	●	
6 – 5	●	●	
7 – 5	●	●	

Q.No:6. Colour hut and the bird which is near the hut.

05





# Computer - Prep

Student's Name: \_\_\_\_\_ Roll No: \_\_\_\_\_

School Name: \_\_\_\_\_

نوٹ: سوالات پرچے میں دی گئی جگہ پر ہی حل کریں۔ اضافی کاپی ہرگز مہیا نہیں کی جائے گی۔ معروضی میں کاٹ کر یا مٹا کر لکھے گئے جوابات غلط تصور ہوں گے۔

Total Marks	Obtained Marks	Grade	Remarks	Examiner Sign
50				

Q.No:1.Reading. 10

Q.No:2. Fill in the blanks. 10

- \_\_\_\_\_ devices are used to enter data in the computer.
- An \_\_\_\_\_ device is any hardware component that conveys information to one or more people.
- A computer cannot \_\_\_\_\_ if its brain stops working.
- Press the \_\_\_\_\_ button of monitor.
- Click the \_\_\_\_\_ option from menu to turn OFF computer.

Q.No:3. Tick (✓) for true and cross (✗) for false. 10

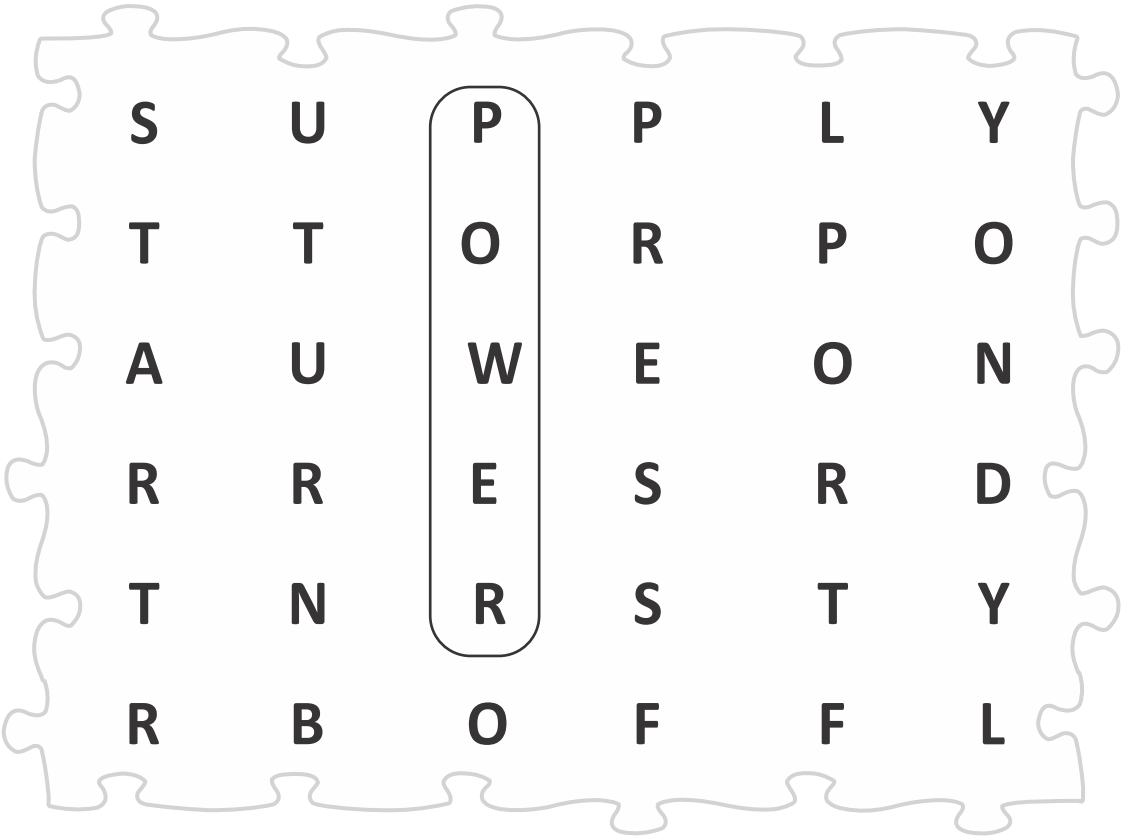
- Computer has two types of devices. ☐
- CPU is the brain of computer. ☐
- Input devices are also called as hardware devices. ☐
- Click the "Shut Down" button to turn OFF computer. ☐
- Check all switches and cables before turning ON computer. ☐

Q.No:4. Fill in the missing letters. 05

- S \_\_\_\_\_pply
- R \_\_\_\_\_store
- B \_\_\_\_\_tton
- S \_\_\_\_\_tting
- S \_\_\_\_\_itch


Q.No:5. Find the puzzle.

05



Q.No:6. Colour the pictures.

10



# Computer - Nursery

Student's Name: \_\_\_\_\_ Roll No: \_\_\_\_\_

School Name: \_\_\_\_\_

نوٹ: سوالات پرچے میں دی گئی جگہ پر ہی حل کریں۔ اضافی کاپی ہرگز مہیا نہیں کی جائے گی۔ معروضی میں کاٹ کر یا مٹا کر لکھے گئے جوابات غلط تصور ہوں گے۔

Total Marks	Obtained Marks	Grade	Remarks	Examiner Sign
50				

Q.No:1.Reading. 10

Q.No:2. Match the image with its correct name. 10

Video

Webcam

X-Key

Y-Cable

Zero



Q.No:3. Fill in the missing letters. 10

V I  E

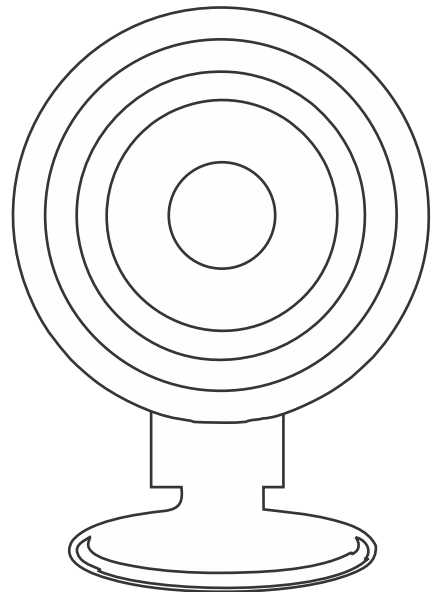
W E  C  M

X - K  Y

Y C  B L

Z  R

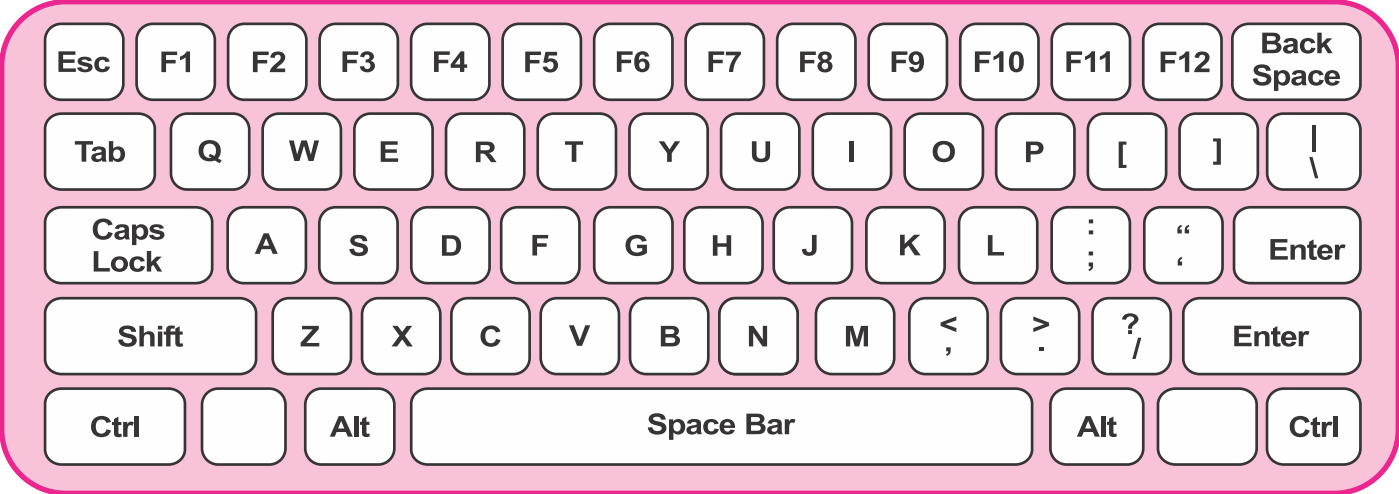
Q.No:4. Colour the picture.



05

Q.No:5.    Colour the keys that make your father' s name.

10



Father's Name:

Q.No:6.    How many siblings do you have?

5

Colour the digits according to number.

7

8

9

4

5

6

1

2

3

0

# MATHEMATICS - THREE

Student's Name: \_\_\_\_\_ Roll No: \_\_\_\_\_

School Name: \_\_\_\_\_

نوٹ: سوالات پرچے میں دی گئی جگہ پر ہی حل کریں۔ اضافی کاپی ہرگز مہیا نہیں کی جائے گی۔ معروضی میں کاٹ کر یا مٹا کر لکھے گئے جوابات غلط تصور ہوں گے۔

Total Marks	Obtained Marks	Grade	Remarks	Examiner Sign
50				

Q. No. 1: Write in 12-hours format.

5

- a. 13 : 45 hrs \_\_\_\_\_
- b. 14 : 50 hrs \_\_\_\_\_
- c. 16 : 10 hrs \_\_\_\_\_
- d. 17 : 00 hrs \_\_\_\_\_

Q. No. 2: Write in 24-hours format.

5

- a. 3 : 13 a.m. \_\_\_\_\_
- b. 11 : 45 a.m. \_\_\_\_\_
- c. 1 : 45 p.m. \_\_\_\_\_
- d. 2 : 00 p.m. \_\_\_\_\_

Q. No. 3: Solve the following.

10

a. 
$$\begin{array}{r} \text{hr} \quad \text{min} \\ 6 \quad 25 \\ + 3 \quad 25 \\ \hline \end{array}$$

b. 
$$\begin{array}{r} \text{hr} \quad \text{min} \\ 4 \quad 35 \\ + 2 \quad 50 \\ \hline \end{array}$$

c. 
$$\begin{array}{r} \text{hr} \quad \text{min} \\ 6 \quad 30 \\ + 2 \quad 40 \\ \hline \end{array}$$

d. 
$$\begin{array}{r} \text{hr} \quad \text{min} \\ 4 \quad 25 \\ + 3 \quad 35 \\ \hline \end{array}$$

e. 
$$\begin{array}{r} \text{hr} \quad \text{min} \\ 2 \quad 50 \\ + 2 \quad 45 \\ \hline \end{array}$$

f. 
$$\begin{array}{r} \text{hr} \quad \text{min} \\ 8 \quad 45 \\ - 2 \quad 35 \\ \hline \end{array}$$

h. 
$$\begin{array}{r} \text{hr} \quad \text{min} \\ 6 \quad 15 \\ - 2 \quad 25 \\ \hline \end{array}$$

i. 
$$\begin{array}{r} \text{hr} \quad \text{min} \\ 4 \quad 20 \\ - 1 \quad 30 \\ \hline \end{array}$$

j. 
$$\begin{array}{r} \text{hr} \quad \text{min} \\ 6 \quad 40 \\ - 4 \quad 25 \\ \hline \end{array}$$

k. 
$$\begin{array}{r} \text{hr} \quad \text{min} \\ 9 \quad 45 \\ - 5 \quad 35 \\ \hline \end{array}$$

Q. No. 4: Measure the distance between given points and write the length below them. 10

a.

A

B

AB

=

cm

b.

C

D

CD

=

cm

c.

E

F

EF

=

cm

d.

O

P

OP

=

cm

e.

J

K

JK

=

cm

Q. No. 5: Draw the given angles with the help of ruler and protractor.10

a.

∠ABC

=

20°

b.

∠DEF

=

30°

c.

∠PQR

=

45°

d.

∠LMN

=

60°




































e.

∠UVW

=

70°

Q. No. 5: Read the pictograph and answer the following questions. (Six friends have many toy cars.) 10

Fazal		     
Zahid		       
Anas		    
Zaib		  
Akbar		    
Usman		 

1.

What is the total of Fazal and Anas cars?

2.

How many cars do Zaib and Akbar have?

3.

Who has the most cars?

4.

Who is 2nd in having the most cars?

5.

How many cars do all friends have?

MATHEMATICS - CLASS FOUR

Student's Name: \_\_\_\_\_ Roll No: \_\_\_\_\_

School Name: \_\_\_\_\_

نوٹ: سوالات پرچے میں دی گئی جگہ پر ہی حل کریں۔ اضافی کاپی ہرگز مہیا نہیں کی جائے گی۔ معروضی میں کاٹ کر یا مٹا کر لکھے گئے جوابات غلط تصور ہوں گے۔

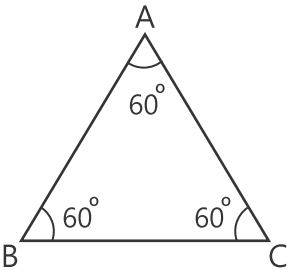
Total Marks	Obtained Marks	Grade	Remarks	Examiner Sign
50				

Q. No.1: Draw the angles of the given measurement: 10

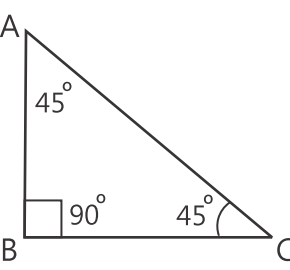
- a. 40°
- b. 60°
- c. 90°
- d. 110°
- e. 150°

Q. No. 2: Write down the names of triangles with respect to angles. 5

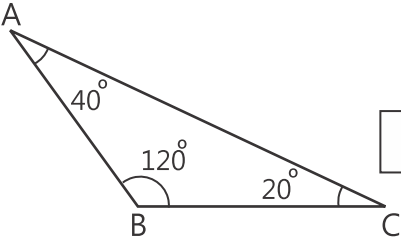
a.



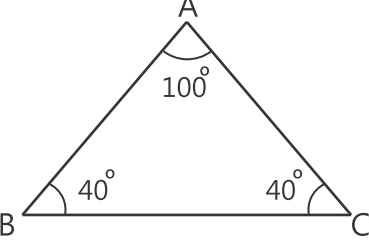
b.



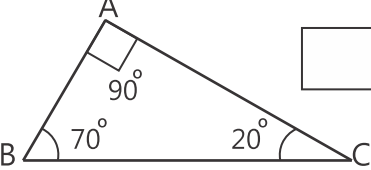
c.



d.




e.




Q. No. 3: Measure the sides of the given figures and write them at proper places. 5

a.



b.



Q. No. 4: Find perimeters of the given figures.

5

a.

6 cm

4 cm

4 cm

6 cm

Perimeter

b.

8 cm

8 cm

8 cm

8 cm

Perimeter

Q. No. 5: Find perimeters of rectangles using the formula.

10

- a.  $l = 5\text{ cm}$   
 $w = 4\text{ cm}$

b.  $l = 8\text{ cm}$   
 $w = 4\text{ cm}$

c.  $l = 10\text{ cm}$   
 $w = 3\text{ cm}$

d.  $l = 9\text{ cm}$   
 $w = 13\text{ cm}$

e.  $l = 9\text{ cm}$   
 $w = 11\text{ cm}$

Q. No. 6: A rectangular room is 21m long and 15m wide. Find the area ofthe room.

5

Q. No. 7: Read the following pie chart which is showing the favourite vegetables of 600 boys.

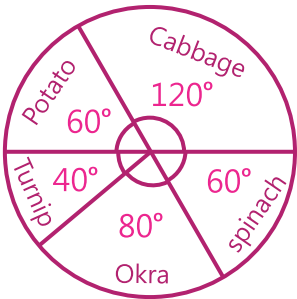
5

- i. How many boys ' favourite vegetable is cabbage?

ii. How many boys ' favourite vegetable is okra?

iii. How many boys ' favourite vegetable is spinach?

iv. How many boys ' favourite vegetable is potato?



Q. No. 8: Draw a bar graph using the following data:

5

Month	Jan	Feb	Mar	April	May
Profit(Rs.)	9,000	6,500	4,000	10,000	8,000



وقت 2:00 گھنٹے

امتحان: تھرڈ ٹرم (رائٹ وے سیریز)

## کلاس اول - پرچہ اسلامیات

نام طالب علم: .....

نام اسکول: .....

نوٹ: سوالات پرچے میں دی گئی جگہ پر ہی حل کریں۔ اضافی کاپی ہرگز مہیا نہیں کی جائے گی۔ حصہ معروضی میں کاٹ کر یا مٹا کر لکھے گئے جوابات غلط تصور ہوں گے۔

کل نمبر	حاصل کردہ نمبر	گریڈ	نتیجہ	دستخط ممتحن
50				

{ حصہ معروضی }

5

☆ خالی جگہیں پر کریں۔

1۔ اچھے بچے روزانہ ..... پر اسکول جاتے ہیں۔

2۔ ..... ماں کے قدموں کے نیچے ہے۔

3۔ دعا کا مطلب ہے .....۔

4۔ جب چھینک آئے تو پڑھیں .....۔

5۔ جب ..... بڑھاپے کو پہنچ جائیں تو انہیں اُف تک نہ کہو۔

10

☆ درست جواب پر (✓) لگائیں۔

1۔ جنت ماں کے ہے:

(a) ہاتھوں کے نیچے (b) بستر کے نیچے (c) قدموں کے نیچے

2۔ والدین میں شامل ہیں:

(a) نانا نانی (b) ماں اور باپ (c) بہن اور بھائی

3۔ اچھے بچے صاف ستھرا رکھتے ہیں:

(a) اپنی وردی (b) دوسروں کے کپڑے (c) اپنی وردی اور دوسروں کے کپڑے

4۔ پاک صاف رہنا عادت ہے:

(a) بری (b) نرالی (c) اچھی

5۔ نبی کریم صلی اللہ علیہ وآلہ وسلم وضو فرماتے:

(a) روزہ سے پہلے (b) نماز سے پہلے (c) زکوٰۃ دینے سے پہلے

5

☆ درست بیانات پر (✓) اور غلط بیانات پر (x) کا نشان لگائیں:

1۔ رشتہ دار ہمارے لیے لباس کا انتظام کرتے ہیں۔

2۔ باپ کی رضامندی میں اللہ تعالیٰ کی رضا ہے۔

3۔ بہترین انسان وہ ہے جو پہلے سلام کرے۔

4۔ ماں باپ کو والدین کہتے ہیں۔

5۔ صفائی نصف ایمان ہے۔


نوٹ: مندرجہ ذیل میں سے کوئی سے پانچ سوالات کے جوابات لکھیں۔

سوال نمبر 1: دعا کا مطلب کیا ہے؟

جواب:

سوال نمبر 2: مسنون دعاؤں سے کیا مراد ہے؟

جواب:

سوال نمبر 3: والدین کسے کہتے ہیں؟

جواب:

سوال نمبر 4: کس کی نافرمانی کرنا بہت بڑا گناہ ہے؟

جواب:

سوال نمبر 5: اچھے بچے کون کون سی اچھی عادتیں اپناتے ہیں؟

جواب:

سوال نمبر 6: صفائی کا مطلب کیا ہے؟

جواب:

سوال نمبر 7: اسلام مسلمانوں کو کس چیز کا درس دیتا ہے؟

جواب:

وقت 2:00 گھنٹے

امتحان: تھرڈ ٹرم (رائٹ وے سیریز)

## کلاس اول۔ پرچہ اردو

نام طالب علم:..... رول نمبر:.....

نام اسکول:.....

نوٹ: سوالات پرچے میں دی گئی جگہ پر ہی حل کریں۔ اضافی کاپی ہرگز مہیا نہیں کی جائے گی۔ حصہ معروضی میں کاٹ کر یا مٹا کر لکھے گئے جوابات غلط تصور ہوں گے۔

کل نمبر	حاصل کردہ نمبر	گریڈ	نتیجہ	دستخط ممتحن
50				

{ حصہ معروضی }

5

☆ خالی جگہیں پر کریں۔

1- یہ..... ہماری شان

2- بی بی حاجرہؓ نے حضرت اسماعیل علیہ السلام کو..... پر لٹایا۔

3- ہم سب کا..... پیارا

4- ایک نیک عورت نے ملکہ کو..... میں دیکھا۔

5- کوئی قافلہ ایک..... سے گزرا۔

10

☆ درست جواب پر (✓) لگائیں۔

1- جب زمین چاند اور سورج کے درمیان آجائے تو کیا ہوتا ہے؟

(a) سورج گرہن (b) چاند گرہن (c) کچھ بھی نہیں

2- سورج کی روشنی چاند کے ہمیشہ تین حصے پر پڑتی ہے:

(a) پورے چاند پر (b) 1/4 حصے پر (c) 1/2 حصے پر

3- خلیفہ ہارون الرشید کی بیگم تھیں:

(a) نور جہاں (b) ملکہ زبیدہ (c) ملکہ ثروت

4- اللہ تعالیٰ نے ملکہ زبیدہ کو

(a) بخش دیا (b) سزا دی (c) انعام دیا

5- گڑیا کی عمر کتنی ہے؟

(a) ایک سال (b) دو سال (c) تین سال

5

☆ دیے گئے الفاظ جملوں میں استعمال کریں۔

1- زبان.....

2- نیک.....

3- پانی.....

4- رسی.....

5- روٹی.....

نوٹ: مندرجہ ذیل میں سے کوئی سے پانچ سوالات کے جوابات لکھیں۔

سوال نمبر 1: ہمارا پرچم کیسا ہے؟

جواب:

سوال نمبر 2: پاکستان کی آن کون ہے؟

جواب:

سوال نمبر 3: ملکہ زبیدہ کس کی بیوی تھی؟

جواب:

سوال نمبر 4: قافلہ کہاں سے گزر رہا تھا؟

جواب:

سوال نمبر 5: آدمی کو کتے کے ساتھ نیکی کا کیا اجر ملا؟

جواب:

سوال نمبر 6: کیسے بول بیمار کی خوشی کا باعث بنتے ہیں؟

جواب:

سوال نمبر 7: گڑیا کے بال کیسے ہیں؟

جواب:

**ENGLISH - CLASS ONE**

Name: \_\_\_\_\_ Roll No: \_\_\_\_\_

School: \_\_\_\_\_

نوٹ: سوالات پرچے میں دی گئی جگہ پر ہی حل کریں۔ اضافی کاپی ہرگز مہیا نہیں کی جائے گی۔ معروضی میں کاٹ کر یا مٹا کر لکھے گئے جوابات غلط تصور ہوں گے۔

Total Marks	Obtained Marks	Grade	Remarks	Examiner Sign
50				

{Objective Type}

**Q. No. 1: Fill in the blanks****10**

- Allah Almighty has given us many \_\_\_\_\_.
- Auto Rickshaw has \_\_\_\_\_ wheels.
- \_\_\_\_\_ love to ride on Rickshaw.
- Bicycle is very useful for short \_\_\_\_\_.
- The lion let the mouse \_\_\_\_\_.

**Q. No. 2: Tick (✓) the correct and (×) cross****5**

- Trees are blessings of Allah.
- Trees are reduce pollution.
- Ali needs to revise his syllabus.
- Bicycle is not useful for exercise.
- Ali will go to school on bicycle.

☐  
☐  
☐  
☐  
☐
**Q. No. 3: Make sentences.****10**

- Vehicle \_\_\_\_\_
- Found \_\_\_\_\_
- General \_\_\_\_\_
- Goods \_\_\_\_\_
- Seen \_\_\_\_\_

**Q. No. 4: Write down any five nouns.****5**

- \_\_\_\_\_
- \_\_\_\_\_
- \_\_\_\_\_
- \_\_\_\_\_
- \_\_\_\_\_

**Q. No. 4: Answer the following questions:**

**10**

1.     What is the importance of trees?

2.     Where do the birds make their nests?

3.     Why do we use Auto Rikshaw?

4.     How many wheels   does an Auto Rikshaw has?

5.     What is the name of pet?

6.     Who gave the present to Ali?

7.     Who saw the lion in net?

**Q. No. 5: Write five sentence about your English Teacher.**

**5**

**Q. No. 5: What five sentence about your selft.**

**5**

**SOCIAL STUDIES CLASS ONE**

Name: \_\_\_\_\_ Roll No: \_\_\_\_\_

School: \_\_\_\_\_

نوٹ: سوالات پرچے میں دی گئی جگہ پر ہی حل کریں۔ اضافی کاپی ہرگز مہیا نہیں کی جائے گی۔ معروضی میں کاٹ کر یا مٹا کر لکھے گئے جوابات غلط تصور ہوں گے۔

Total Marks	Obtained Marks	Grade	Remarks	Examiner Sign
50				

{Objective Type}

**Q. No. 1: Fill in the blanks:****10**

- The Earth is \_\_\_\_\_ home.
- The Earth is made up of \_\_\_\_\_ and water.
- The red light means \_\_\_\_\_.
- We should follow the \_\_\_\_\_ lights.
- Most people of village live in \_\_\_\_\_ houses.

**Q. No. 2: Choose correct answer.****10**

- We should follow the:
  - fast vehicles
  - traffic lights
  - slow vehicles
- To cross the road, we should see:
  - right
  - left
  - both a & b
- Railway station is a place where \_\_\_\_\_ come and go.
  - books
  - houses
  - trains
- We eat food:
  - monthly
  - weekly
  - daily
- Pakistan is our:
  - town
  - country
  - city

**Q. No. 3: Tick (✓) the true and cross (×) the false statement.****5**

- We should follow the traffic lights.
- The red light means to stop.
- Life in village is very slow and calm.
- Eighty percent population of Pakistan lives in villages.
- Sky is our home.

☐  
☐  
☐  
☐  
☐

**Note: Answer the following question. (any five)**

**25**

1. What should we do before crossing the road?

---

---

---

2. What are the people of a village called?

---

---

---

3. Where do the most of people live in a village?

---

---

---

4. What kind of people the villagers are?

---

---

---

5. Which thing is our home?

---

---

---

6. How does look the Earth?

---

---

---

7. Who was Major Aziz Bhatti?

---

---

---



**SCIENCE-CLASS ONE**

Name: \_\_\_\_\_ Roll No: \_\_\_\_\_

School: \_\_\_\_\_

نوٹ: سوالات پرچے میں دی گئی جگہ پر ہی حل کریں۔ اضافی کاپی ہرگز مہیا نہیں کی جائے گی۔ معروضی میں کاٹ کر یا مٹا کر لکھے گئے جوابات غلط تصور ہوں گے۔

Total Marks	Obtained Marks	Grade	Remarks	Examiner Sign
50				

{Objective Type}

**Q. No. 1: Which animals help us in transport. circle them.** **5**

- We have \_\_\_\_\_ senses.
- Our body parts \_\_\_\_\_ us in our work.
- Things can be \_\_\_\_\_, \_\_\_\_\_ and \_\_\_\_\_.
- Steam is \_\_\_\_\_ form of water.
- The \_\_\_\_\_ is a star.

**Q. No. 2: Tick (✓) the correct option.** **5**

- We need to do work.  
(a) car (b) energy
- We get oil from \_\_\_\_\_.  
(a) Earth (b) Sun
- The Sun is a source of \_\_\_\_\_.  
(a) Wind energy (b) solar energy
- Sound is also a form of \_\_\_\_\_.  
(a) work (b) energy
- Wind energy is used by \_\_\_\_\_.  
(a) windmil (b) fan

**Q. No. 3: Write "T" for true and "F" for false.** **5**

- Material objects are made up of matter.
- Solid things do not have fix shapes.
- There are four states of water.
- Honey and water are examples of liquid.
- Some gases are colourless.


**Note: Answer the following questions. (any five)**

**30**

1. How many senses do we have?

---

---

---

2. How do we see?

---

---

---

3. Write the properties of solids.

---

---

---

4. Define matter.

---

---

---

5. Why we need energy?

---

---

---

6. What are resources?

---

---

---

7. Why should we be careful in using our resources?

---

---

---

**COMPUTER - CLASS ONE**

Name: \_\_\_\_\_ Roll No: \_\_\_\_\_

School: \_\_\_\_\_

نوٹ: سوالات پرچے میں دی گئی جگہ پر ہی حل کریں۔ اضافی کاپی ہرگز مہیا نہیں کی جائے گی۔ معروضی میں کاٹ کر یا مٹا کر لکھے گئے جوابات غلط تصور ہوں گے۔

Total Marks	Obtained Marks	Grade	Remarks	Examiner Sign
50				

{Objective Type}

**Q. No. 1: Fill in the blanks:****5**

- Alphabet keys are \_\_\_\_\_ in numbers.
- \_\_\_\_\_ key refreshes the current window.
- \_\_\_\_\_ key is used to create a new paragraph.
- \_\_\_\_\_ can be a still pictures or a number of pictures moving after regular interval.
- Each drive shows \_\_\_\_\_ along with its name.

**Q. No. 2: Tick (✓) the correct answer:****10**

- Do not \_\_\_\_\_ or \_\_\_\_\_ near your computer.  
(a) eat (b) drink (c) both a & b
- Always use system under your \_\_\_\_\_ supervision.  
(a) parents (b) teacher's (c) both a & b
- Do not press the buttons of \_\_\_\_\_ and \_\_\_\_\_ hard.  
(a) keyboard (b) mouse (c) both a & b
- We can type capital alphabets by using \_\_\_\_\_ key.  
(a) shift (b) capslock (c) backspace
- The \_\_\_\_\_ is a small arrow on the computer screen.  
(a) pointer (b) cursor (c) both a & b

**Q. No. 3: Write the name of each type of mouse.****5**

tongue

Ear

hand

nose

eye

**Note: Answer the following questions of any five:**

**30**

1. Why should we take care of our computer?

---

---

---

2. When should we use computer?

---

---

---

3. Is this right that you should turn off your computer directly?

---

---

---

4. What is the function of folder?

---

---

---

5. What is desktop?

---

---

---

6. What is wallpaper?

---

---

---

7. How can we drag and drop or move an item?

---

---

---

وقت 2:00 گھنٹے

امتحان: تھرڈ ٹرم (رائٹ وے سیریز)

## کلاس دوم - پرچہ اسلامیات

نام طالب علم: .....

نام اسکول: .....

نوٹ: سوالات پرچے میں دی گئی جگہ پر ہی حل کریں۔ اضافی کاپی ہرگز مہیا نہیں کی جائے گی۔ حصہ معروضی میں کاٹ کر یا مٹا کر لکھے گئے جوابات غلط تصور ہوں گے۔

کل نمبر	حاصل کردہ نمبر	گریڈ	نتیجہ	دستخط ممتحن
50				

{ حصہ معروضی }

5

☆ خالی جگہیں پر کریں۔

- 1- ہر چیز کا خالق و مالک ..... ہے۔
- 2- ہم سب کا رازق اور پالنے والا ..... ہے
- 3- اللہ تعالیٰ نے انسان کو وہ کچھ سکھایا جو وہ ..... تھا۔
- 4- استاد ہی ہوتا ہے جو انسان کو پڑھا لکھا کر ..... بناتا ہے۔
- 5- حضرت نوح علیہ السلام کے بیٹے کا نام ..... تھا۔

10

☆ درست جواب پر (✓) لگائیں۔

- 1- ہم سب کا رازق اور پالنے والا ہے:
  - (a) اللہ تعالیٰ
  - (b) فرشتہ
  - (c) نبی کریم صلی اللہ علیہ وآلہ وسلم
- 2- جانوروں کو ..... نہیں چاہیے۔
  - (a) روکنا
  - (b) بٹھانا
  - (c) مارنا پیٹنا
- 3- حضرت نوح علیہ السلام کا ساتھ دیا:
  - (a) چند لوگوں نے
  - (b) سبھی لوگوں نے
  - (c) کسی نے بھی نہیں
- 4- حضرت نوح علیہ السلام نے عمر پائی:
  - (a) 900 سال
  - (b) 950 سال
  - (c) 1000 سال
- 5- حضرت نوح علیہ السلام نے آخر کار اپنی امت کے لیے دعا کی:
  - (a) ثواب کی
  - (b) عذاب کی
  - (c) ہدایت کی

5

☆ درست بیانات پر (✓) اور غلط بیانات پر (x) کا نشان لگائیں:


- 1- علم خود بخود سیکھا جاسکتا ہے۔
- 2- استاد صاحب جس کام سے منع کریں اسے چھوڑ دینا چاہیے۔
- 3- کم عقل لوگ بتوں کے نام پر قربانی کرتے تھے۔
- 4- خانہ کعبہ کی طرف منہ کر کے پیشاب نہیں کرنا چاہیے۔
- 5- سب سے پہلے خانہ کعبہ حضرت آدم علیہ السلام نے تعمیر کیا۔

نوٹ: مندرجہ ذیل میں سے کوئی سے پانچ سوالات کے جوابات لکھیں۔

سوال نمبر 1: اللہ تعالیٰ نے کیا کیا چیزیں بنائی ہیں؟

جواب:

سوال نمبر 2: ہم سب کا رازق اور پالنے والا کون ہے؟

جواب:

سوال نمبر 3: سب سے پہلا استاد کون ہے؟

جواب:

سوال نمبر 4: علم سکھانے والے کو کیا کہتے ہیں؟

جواب:

سوال نمبر 5: حضرت آدم علیہ السلام کی اولاد میں کس برائی نے جہنم لیا؟

جواب:

سوال نمبر 6: حضرت نوح علیہ السلام نے لوگوں کو کیا تعلیم دی؟

جواب:

سوال نمبر 7: اللہ تعالیٰ نے حضرت نوح علیہ السلام کی قوم پر کس طرح اور کون سا عذاب نازل کیا؟

جواب:

وقت 2:00 گھنٹے

امتحان: تھرڈ ٹرم (رائٹ وے سیریز)

## کلاس دوم - پرچہ اردو

نام طالب علم:..... رول نمبر:.....

نام اسکول:.....

نوٹ: سوالات پرچے میں دی گئی جگہ پر ہی حل کریں۔ اضافی کاپی ہرگز مہیا نہیں کی جائے گی۔ حصہ معروضی میں کاٹ کر یا مٹا کر لکھے گئے جوابات غلط تصور ہوں گے۔

کل نمبر	حاصل کردہ نمبر	گریڈ	نتیجہ	دستخط ممتحن
50				

{ حصہ معروضی }

5

☆ خالی جگہیں پر کریں۔

1-..... اللہ تعالیٰ کی بہت بڑی نعمت ہیں۔

2- اپنی محنت کا..... پائیں

3- ایک..... اس کی دکان میں گھس آیا۔

4- غصے کے وقت..... کو خدا تعالیٰ نے بھی پسند فرمایا ہے۔

5- سچائی کے..... جلانے

10

☆ درست جواب پر (✓) لگائیں۔

1- والدین کے ساتھ کیسا سلوک کرو؟

(a) اچھا (b) نیک (c) برا

2- والدین کو کیا نہ کہو؟

(a) ہائے (b) اُف (c) آہ

3- پیڑ لگانا کیسا ہے؟

(a) برا (b) اچھا (c) فائدہ مند

4- ناگ کے منہ سے کیا نکلنا شروع ہو گیا؟

(a) جھاگ (b) زہر (c) خون

5- ایک آدمی رہتا تھا؟

(a) جنگل میں (b) گاؤں میں (c) شہر میں

5

☆ درج ذیل الفاظ کو جملوں میں استعمال کریں۔

1- خون.....

2- ڈنک.....

3- قوت.....

4- آری.....

5- طیش.....

نوٹ: مندرجہ ذیل میں سے کوئی سے پانچ سوالات کے جوابات لکھیں۔

سوال نمبر 1: پیڑ لگانا کیسا کام ہے؟

جواب:

سوال نمبر 2: دھوپ میں پیڑ کیا فائدہ دیتے ہیں؟

جواب:

سوال نمبر 3: بازار میں کس کی دکان تھی؟

جواب:

سوال نمبر 4: آدمی کہاں رہتا تھا؟

جواب:

سوال نمبر 5: عبداللہ نے سیب کہاں کھایا؟

جواب:

سوال نمبر 6: گاؤں کے باسی کیسے لوگ ہیں؟

جواب:

سوال نمبر 7: کڑی دھوپ میں انسان کو کہاں آنا چاہیے؟

جواب:



**ENGLISH - CLASS TWO**

Name: \_\_\_\_\_ Roll No: \_\_\_\_\_

School: \_\_\_\_\_

نوٹ: سوالات پرچے میں دی گئی جگہ پر ہی حل کریں۔ اضافی کاپی ہرگز مہیا نہیں کی جائے گی۔ معروضی میں کاٹ کر یا مٹا کر لکھے گئے جوابات غلط تصور ہوں گے۔

Total Marks	Obtained Marks	Grade	Remarks	Examiner Sign
50				

{Objective Type}

**Q. No. 1: Fill in the blanks****10**

- Winter, spring \_\_\_\_\_, fall
- The \_\_\_\_\_ was in high spirits.
- Last Sunday, Zeeshan and Qamar went to watch a \_\_\_\_\_.
- The \_\_\_\_\_ started in time.
- They go to a \_\_\_\_\_ for shopping.

**Q. No. 2: Tick (✓) the correct and cross (×) the false options.****5**

- The mall has different shops. ☐
- We can buy story books from bakery. ☐
- We can buy a bouquet from flower-shop. ☐
- We go to market for studying. ☐

**Q. No. 3: Supply the missing letters.****5**

- Fo\_\_d
- R\_\_in
- Au\_\_ience
- Exc\_\_ement
- Fin\_\_lized

**Q. No. 4: Use five sentences by using "it".****5**

- \_\_\_\_\_
- \_\_\_\_\_
- \_\_\_\_\_
- \_\_\_\_\_
- \_\_\_\_\_

**Q. No. 4: Make comparative degree of the following adjectives.****5**

- little \_\_\_\_\_
- thin \_\_\_\_\_
- bad \_\_\_\_\_
- dry \_\_\_\_\_
- clever \_\_\_\_\_

**Q. No. 4: Answer the following questions. (Any five)**

**10**

1. How many seasons are there in the poem?

---

2. Write the names of four seasons.

---

3. What is the sign of Spring?

---

4. Who were true friends?

---

5. Why did squirrel lose its balance?

---

6. Why did it start heavily?

---

7. Who came to help the squirrel?

---

**Q. No. 5: Fill in the blanks with was and were.**

**10**

i. The baby \_\_\_\_\_ sleeping in the cradle.

ii. The gardener \_\_\_\_\_ watering the plants.

iii. The boys \_\_\_\_\_ swimming in the pool.

iv. She \_\_\_\_\_ eating honey.

v. The worker \_\_\_\_\_ in the factory.

**SOCIAL STUDIES CLASS TWO**

Name: \_\_\_\_\_ Roll No: \_\_\_\_\_

School: \_\_\_\_\_

نوٹ: سوالات پرچے میں دی گئی جگہ پر ہی حل کریں۔ اضافی کاپی ہرگز مہیا نہیں کی جائے گی۔ معروضی میں کاٹ کر یا مٹا کر لکھے گئے جوابات غلط تصور ہوں گے۔

Total Marks	Obtained Marks	Grade	Remarks	Examiner Sign
50				

{Objective Type}

**Q. No. 1: Fill in the blanks:****10**

- Peshawar is the \_\_\_\_\_ of Khyber Pakhtunkhwa.
- Agriculture is the \_\_\_\_\_ of the economy of Pakistan.
- Quetta is the \_\_\_\_\_ of Balochistan.
- There are many \_\_\_\_\_ and \_\_\_\_\_ cities in Pakistan.
- The people of Punjab are \_\_\_\_\_ for their traditions and regional culture.

**Q. No. 2: Tick (✓) the correct option.****10**

- The \_\_\_\_\_ has screen to show what is happening.  
(a) radio (b) newspaper (c) television
- The \_\_\_\_\_ is the oldest mean of communication.  
(a) television (b) mobile phone (c) letter
- The capital of Punjab is:  
(a) Lahore (b) Islamabad (c) Multan
- \_\_\_\_\_ has many historical buildings.  
(a) Rawalpindi (b) Sialkot (c) Lahore
- Quetta is the capital of:  
(a) Sindh (b) Balochistan (c) Khyber Pakhtunkhwa

**Q. No. 2: Tick (✓) for correct and (×) for false statement:****5**

- In the winter we wear cotton clothes.
- Pakistan is an agricultural country.
- Rabi crops are not known as winter crops.
- There are many important and large cities in Pakistan.
- Islamabad is the capital of Punjab.


**Note: Answer the following question. (any five)**

**25**

1. What do you mean by communication?

---

---

---

2. What is weather?

---

---

---

3. Does weather change everyday?

---

---

---

4. Name two systems of sowing and harvesting Pakistan?

---

---

---

5. Name the largest city of Pakistan.

---

---

---

6. Which province is called "the land of saints"?

---

---

---

7. How should we cross a road?

---

---

---

## SCIENCE-CLASS TWO

Name: \_\_\_\_\_ Roll No: \_\_\_\_\_

School: \_\_\_\_\_

نوٹ: سوالات پرچے میں دی گئی جگہ پر ہی حل کریں۔ اضافی کاپی ہرگز مہیا نہیں کی جائے گی۔ معروضی میں کاٹ کر یا مٹا کر لکھے گئے جوابات غلط تصور ہوں گے۔

Total Marks	Obtained Marks	Grade	Remarks	Examiner Sign
50				

{Objective Type}

**Q. No. 1: Which animals help us in transport. circle them.****5**

- We live on the \_\_\_\_\_.
- The outer shell of the earth is called \_\_\_\_\_.
- Core can be divided into \_\_\_\_\_ layers.
- Fast moving \_\_\_\_\_ is called storm.
- \_\_\_\_\_ blows softly.

**Q. No. 2: Write "T" for true and "F" for false.****5**

- Magnet is a piece of wood.
- Compass helps to find direction.
- We live on mental.
- The crust is 2900 km thick.
- Iron and gold is found in the outer core.


**Q. No. 3: Match the columns.****5**

Breeze
Storm
Wind
Weather cock

Fast and strong wind
Shows direction of wind.
Gentle and soft wind.
Disperse the seeds.

**Q. No. 4: Write the shapes of the magnets.****5**

--

--

--

--

**Note: Answer the following questions. (any five)**

**30**

1. What is magnet?

---

---

---

2. Write some uses of magnet.

---

---

---

3. What is crust?

---

---

---

4. Which mineral are found in the core?

---

---

---

5. Write the three works that the wind can do.

---

---

---

6. What is breeze?

---

---

---

7. How can be storm harmful?

---

---

---

**COMPUTER - CLASS TWO**

Name: \_\_\_\_\_ Roll No: \_\_\_\_\_

School: \_\_\_\_\_

نوٹ: سوالات پرچے میں دی گئی جگہ پر ہی حل کریں۔ اضافی کاپی ہرگز مہیا نہیں کی جائے گی۔ معروضی میں کاٹ کر یا مٹا کر لکھے گئے جوابات غلط تصور ہوں گے۔

Total Marks	Obtained Marks	Grade	Remarks	Examiner Sign
50				

{Objective Type}

**Q. No. 2: Fill in the blanks.****10**

1. Paint is basically a \_\_\_\_\_ software of windows.
2. Drawing and colouring software is \_\_\_\_\_.
3. There are \_\_\_\_\_ brushes in Paint.
4. John Napir was a \_\_\_\_\_ mathematician.
5. Computer programs are also known as \_\_\_\_\_.

**Q. No. 2: Encircle the correct answer:****10**


1. \_\_\_\_\_ tool is used for drawing pictures and shapes.  
(a) pencil (b) select (c) text
2. \_\_\_\_\_ shapes are already available in paint program.  
(a) Rectangle (b) Triangle (c) Oval
3. Magnifier \_\_\_\_\_ the select area and helps us to work on drawing.  
(a) increase (b) decrease (c) zoom
4. \_\_\_\_\_ is / are examples of game consoles.  
(a) xbox 360 (b) play station (c) Nintendo's Wii
5. Abacus was developed about \_\_\_\_\_ BC.  
(a) 700 BC (b) 800 BC (c) 1000 BC

**Q. No. 3: Write the names of tools as shown.****5**

.....



.....



.....



.....



.....

**Note: Answer the following questions of any five:**

**25**

1. What is paint software?

---

---

---

2. Write four components of Paint?

---

---

---

3. How is paint started?

---

---

---

4. What is computer?

---

---

---

5. Name any two computer applications?

---

---

---

6. What is an abacus?

---

---

---

7. Who was John Napier and What did he invent?

---

---

---



MATHEMATICS - CLASS TWO

Name: \_\_\_\_\_ Roll No: \_\_\_\_\_

School: \_\_\_\_\_

نوٹ: سوالات پرچے میں دی گئی جگہ پر ہی حل کریں۔ اضافی کاپی ہرگز مہیا نہیں کی جائے گی۔ معروضی میں کاٹ کر یا مٹا کر لکھے گئے ہوئے جوابات غلط تصور ہوں گے۔

Total Marks	Obtained Marks	Grade	Remarks	Examiner Sign
50				

{Objective Type}

Q. No. 1: Solve the following. 10

a. 

36m

+ 45m

b. 

95m

+ 35m

c. 

65m

+ 30m

d. 

3 km 249m

+ 6 km 432m

e. 

8 km 404m

+ 18 km 466m

Q. No. 2: Convert the following. 5

- a. 4 m to cm
- b. 44 m to cm

Q. No. 3: Convert kg to gram. 5

- a. 4 kg
- b. 6 kg

Q. No. 4: Convert l and ml to ml 10

- a. 3 l 30 ml
- b. 1 l 1 ml
- c. 8 l 10ml
- d. 100 l 10 ml
- e. 5 l 50 ml



وقت 2:00 گھنٹے

امتحان: تھرڈ ٹرم (رائٹ وے سیریز)

## کلاس سوم - پرچہ اسلامیات

نام طالب علم: .....

نام اسکول: .....

نوٹ: سوالات پرچے میں دی گئی جگہ پر ہی حل کریں۔ اضافی کاپی ہرگز مہیا نہیں کی جائے گی۔ حصہ معروضی میں کاٹ کر یا مٹا کر لکھے گئے جوابات غلط تصور ہوں گے۔

کل نمبر	حاصل کردہ نمبر	گریڈ	نتیجہ	دستخط ممتحن
50				

{ حصہ معروضی }

5

☆ خالی جگہیں پر کریں۔

- 1۔ نبی کریم صلی اللہ علیہ وآلہ غارِ حرا میں اللہ تعالیٰ کی ..... کرتے تھے۔
- 2۔ زبانی سے نکلی ہوئی بات ..... نہیں آتی۔
- 3۔ جب کوئی بات کرے تو درمیان میں نہ .....۔
- 4۔ اگر ہمسایہ محتاج ہو تو اس کی طرف ..... کرو۔
- 5۔ دوزخ میں ڈھکیل دیتی ہے۔

10

☆ درست جواب پر (✓) لگائیں۔

- 1۔ غارِ حرا کس پہاڑ میں واقع ہے؟  
(a) جبلِ رحمت (b) جبلِ نور (c) کوہِ صفا
- 2۔ اگر ہمسایہ بیمار ہے تو اس کی کرنی چاہیے:  
(a) تیمارداری (b) دعوت (c) خوشی
- 3۔ اگر کوئی ہمسایہ فوت ہو جائے تو شرکت کرنی چاہیے اس کے:  
(a) جنازے میں (b) چالیسویں میں (c) ساتویں میں
- 4۔ دوسرے لوگوں کی نظروں میں ذلیل و خوار ہوتا ہے:  
(a) جھوٹا انسان (b) سچا انسان (c) اچھا انسان
- 5۔ ”طاہرہ“ کے معنی ..... ہیں۔  
(a) پاک صاف (b) امانتدار (c) نیک

5

☆ درست بیانات پر (✓) اور غلط بیانات پر (x) کا نشان لگائیں:

- 1۔ اہل مکہ بت پرستی اور بری عادتوں میں مبتلا نہیں تھے۔
- 2۔ غارِ حرا مدینہ کے قریب واقع ہے۔
- 3۔ حضرت عمرؓ نے مسجد نبوی میں قبول اسلام کا اعلان کیا۔
- 4۔ فاروق کا مطلب حق و باطل کے درمیان فرق کرنے والا ہے۔
- 5۔ حضرت عمرؓ کا دور مسلمانوں کا سنہرا دور تھا۔


نوٹ: مندرجہ ذیل میں سے کوئی سے پانچ سوالات کے جوابات لکھیں۔

سوال نمبر 1: آپ صلی اللہ علیہ وآلہ وسلم کیوں غمزدہ رہتے تھے؟

جواب:

سوال نمبر 2: ورقہ بن نوفل نے نبی کریم صلی اللہ علیہ وآلہ وسلم کو اہل مکہ کے بارے میں کیا کہا؟

جواب:

سوال نمبر 3: اچھی گفتگو کرنے سے کیا ظاہر ہوتا ہے؟

جواب:

سوال نمبر 4: نبی کریم صلی اللہ علیہ وآلہ وسلم نے گفتگو کے بارے میں کیا فرمایا ہے؟

جواب:

سوال نمبر 5: جھوٹ سے کیا مراد ہے؟

جواب:

سوال نمبر 6: چوری سے کیا مراد ہے؟

جواب:

سوال نمبر 7: شادی کے وقت حضرت خدیجہؓ اور نبی کریم صلی اللہ علیہ وآلہ وسلم کی عمر مبارک کتنی تھی؟

جواب:

وقت 2:00 گھنٹے

امتحان: تھرڈ ٹرم (رائٹ وے سیریز)

## کلاس سوم - پرچہ اردو

نام طالب علم: .....

نام اسکول: .....

نوٹ: سوالات پرچے میں دی گئی جگہ پر ہی حل کریں۔ اضافی کاپی ہرگز مہیا نہیں کی جائے گی۔ حصہ معروضی میں کاٹ کر یا مٹا کر لکھے گئے جوابات غلط تصور ہوں گے۔

کل نمبر	حاصل کردہ نمبر	گریڈ	نتیجہ	دستخط ممتحن
50				

{ حصہ معروضی }

5

☆ خالی جگہیں پر کریں۔

1۔ علامہ محمد اقبالؒ نے ..... سے میٹرک کا امتحان پاس کیا۔

2۔ صبح ہوئی جنگل کو.....

3۔ ..... میں رفتہ رفتہ اضافہ ہوتا رہتا ہے۔

4۔ گاؤں کے لوگ..... بھی پالتے ہیں۔

5۔ سو کے اٹھا..... لڑکا

10

☆ درست جواب پر (✓) لگائیں۔

1۔ علامہ اقبالؒ کا خاندان کہاں سے سیالکوٹ آکر آباد ہوا؟

(a) کشمیر (b) دہلی (c) ایران

2۔ علامہ اقبالؒ کے والد کا نام کیا تھا؟

(a) شیخ نور الدین (b) شیخ نور احمد (c) شیخ نور محمد

3۔ گائے کو کس نے بنایا ہے؟

(a) معمار نے (b) بڑھئی نے (c) خدا نے

4۔ کسی ملک میں رہنے والے لوگوں کی تعداد کہلاتی ہے:

(a) مردم شماری (b) آبادی (c) معیشت

5۔ ماں باپ اسے بے حد..... تھے۔

(a) مارتے (b) ڈانتے (c) پیار کرتے

5

☆ کالم ’الف‘، کالم ’ب‘ سے ملائیں۔

کپڑے رنگتے ہیں
جوتے مرمت کرتے ہیں
کپڑے سیٹے ہیں
عمارتیں بناتے ہیں
لکڑی کی چیزیں بناتے ہیں

معمار
درزی
بڑھئی
رنگ ریز
موچی

نوٹ: مندرجہ ذیل میں سے کوئی سے پانچ سوالات کے جوابات لکھیں۔

سوال نمبر 1: علامہ محمد اقبال کب اور کہاں پیدا ہوئے؟

جواب:

سوال نمبر 2: گائے کیا چیز کھاتی ہے؟

جواب:

سوال نمبر 3: آبادی سے کیا مراد ہے؟

جواب:

سوال نمبر 4: ماہی گیر کہاں سے مچھلیاں پکڑتے ہیں؟

جواب:

سوال نمبر 5: بانو کی عادتیں کیوں خراب ہوئیں؟

جواب:

سوال نمبر 6: نور کا ٹڑکا کب ہوتا ہے؟

جواب:

سوال نمبر 7: مرغے نے لڑکے سے کیا کہا؟

جواب:

**ENGLISH - CLASS THREE**

Name: \_\_\_\_\_ Roll No: \_\_\_\_\_

School: \_\_\_\_\_

نوٹ: سوالات پرچے میں دی گئی جگہ پر ہی حل کریں۔ اضافی کاپی ہرگز مہیا نہیں کی جائے گی۔ معروضی میں کاٹ کر یا مٹا کر لکھے گئے جوابات غلط تصور ہوں گے۔

Total Marks	Obtained Marks	Grade	Remarks	Examiner Sign
50				

{Objective Type}

**Q. No. 1: Fill in the blanks****10**

- Elephant's favourite food is \_\_\_\_\_.
- Elephant spends sixteen to eighteen hours for \_\_\_\_\_.
- "Caw!" says the rook, as he \_\_\_\_\_ over head;
- He likes to read the \_\_\_\_\_ story of "Tarzan".
- Mobile Phone is also known as \_\_\_\_\_.

**Q. No. 2: Tick (✓) the correct and cross (×) the false options.****5**

- \_\_\_\_\_ is the largest mammal of land.  
(a) Giraffe (b) Elephant (c) Buffalo
- The tusks of the elephant are called:  
(a) teeth (b) ivory (c) both
- The elephant lives in the:  
(a) forest (b) sea (c) caves
- The elephant uses its \_\_\_\_\_ to get water and food.  
(a) trunk (b) tusks (c) mouth

**Q. No. 3: Make sentences.****5**

- rest \_\_\_\_\_
- flying \_\_\_\_\_
- like \_\_\_\_\_
- want \_\_\_\_\_
- read \_\_\_\_\_

Q. No. 4: Answer the following questions. (Any five)

15

1.

Which is the largest animal of land?
2.

Why does the Sun sink?
3.

What are all the rooks doing?
4.

In which class does Umair read?
5.

Which story does Umair like to read?
6.

What is a mobile phone?
7.

What was the weight of first mobile phone?

Q. No. 5: Make five sentences by using the adjectives of quantity/number.

5

Q. No. 6: Write the synonyms of the following words.

5

Fault	Reveal	Proud	Correct	Join

Q. No. 7: Fill in the blanks with present participle.

5

1.

He is \_\_\_\_\_ a song

(sing)
2.

The boy is \_\_\_\_\_ .

(cry)
3.

She is \_\_\_\_\_ on the bench.

(sit)
4.

The tiger is \_\_\_\_\_ very fast.

(run)
5.

We are \_\_\_\_\_ tea.

(tea)



**SOCIAL STUDIES CLASS THREE**

Name: \_\_\_\_\_ Roll No: \_\_\_\_\_

School: \_\_\_\_\_

نوٹ: سوالات پرچے میں دی گئی جگہ پر ہی حل کریں۔ اضافی کاپی ہرگز مہیا نہیں کی جائے گی۔ معروضی میں کاٹ کر یا مٹا کر لکھے گئے جوابات غلط تصور ہوں گے۔

Total Marks	Obtained Marks	Grade	Remarks	Examiner Sign
50				

{Objective Type}

**Q. No. 1: Fill in the blanks:****10**

- Most of our people live in \_\_\_\_\_.
- \_\_\_\_\_ is a common meeting place for villagers.
- There are many \_\_\_\_\_ and \_\_\_\_\_ in cities.
- Everyone who live in Pakistan is called a \_\_\_\_\_ of Pakistan.
- People keep their money in \_\_\_\_\_.

**Q. No. 2: Tick (✓) for correct and (×) for false statement:****5**

- Life in cities is very slow.
- People do not like to migrate from village to city.
- We must become a good citizen.
- A man can fulfill his requirements by himself.
- In spring, the days become longer.


**Q. No. 3: Write the names of types of magnets.****5****Road View****Park****Sea View****Zoo**

**Note: Answer the following question. (any five)**

**30**

1.     What do you mean by villager?

---

---

---

2.     Write down about villager women?

---

---

---

3.     Define city?

---

---

---

4.     How is city life?

---

---

---

5.     How can we try to become a good citizen?

---

---

---

6.     What is the function of an organization?

---

---

---

7.     Which season is now a days?

---

---

---

**SCIENCE CLASS THREE**

Name: \_\_\_\_\_ Roll No: \_\_\_\_\_

School: \_\_\_\_\_

نوٹ: سوالات پرچے میں دی گئی جگہ پر ہی حل کریں۔ اضافی کاپی ہرگز مہیا نہیں کی جائے گی۔ معروضی میں کاٹ کر یا مٹا کر لکھے گئے جوابات غلط تصور ہوں گے۔

Total Marks	Obtained Marks	Grade	Remarks	Examiner Sign
50				

{Objective Type}

**Q. No. 1: Fill in the blanks:****10**

- All \_\_\_\_\_ attract iron.
- There are \_\_\_\_\_ types of magnet.
- \_\_\_\_\_ is used to making statues.
- Planet moves around a \_\_\_\_\_.
- A planet is \_\_\_\_\_ in size than a star.

**Q. No. 2: Tick (✓) for correct and (×) for false statement:****5**

- A magnet has 3 poles.
- Any two same poles always repel each other.
- Stone rock is a hard rock.
- The colour of slate is grey.
- Rocks are not useful to us.


**Q. No. 3: Write the names of types of magnets.****5**

--

--

--

--

**Note: Answer the following question. (any five)**

**30**

1. What is a pole?

---

---

---

2. Where is the force of attraction stronger?

---

---

---

3. What are rocks?

---

---

---

4. Write the names of two hard rocks.

---

---

---

5. What are the main features of planet?

---

---

---

6. Define orbit.

---

---

---

7. Describe satellites.

---

---

---

**COMPUTER - CLASS THREE**

Name: \_\_\_\_\_ Roll No: \_\_\_\_\_

School: \_\_\_\_\_

نوٹ: سوالات پرچے میں دی گئی جگہ پر ہی حل کریں۔ اضافی کاپی ہرگز مہیا نہیں کی جائے گی۔ معروضی میں کاٹ کر یا مٹا کر لکھے گئے جوابات غلط تصور ہوں گے۔

Total Marks	Obtained Marks	Grade	Remarks	Examiner Sign
50				

{Objective Type}

**Q. No. 1: Fill in the blanks:****5**

- Word pad is a default program of \_\_\_\_\_.
- Computer is an electronic \_\_\_\_\_.
- The word digital means \_\_\_\_\_.
- USB stands for \_\_\_\_\_.
- There are \_\_\_\_\_ types of memory.

**Q. No. 2: Encircle the correct answer:****10**

- Under the title bar of word pad window there is:  
(a) format bar (b) title bar (c) menu bar
- In WordPad we can \_\_\_\_\_.  
(a) listen music (b) watch movies (c) write text
- \_\_\_\_\_ is an option in which we enlarge text.  
(a) italic (b) bold (c) underline
- \_\_\_\_\_ computers are used in all fields of life.  
(a) Hybrid (b) analog (c) digital
- The smart phone is the latest kind of \_\_\_\_\_.  
(a) Micro computers (b) Mini computers (c) Mobile phone

**Q. No. 3: Write the names of the following.****5**

**Note: Answer the following questions of any five:**

**30**

1. Why we use WordPad program?

---

---

---

2. Can you open / start WordPad? How?

---

---

---

3. What is in the title bar?

---

---

---

4. Write steps to open new document.

---

---

---

5. Define a computer.

---

---

---

6. What is tablet?

---

---

---

7. What is a smart phone?

---

---

---

وقت 2:00 گھنٹے

امتحان: تھرڈ ٹرم (رائٹ وے سیریز)

## کلاس چہارم - پرچہ اسلامیات

نام طالب علم: .....

نام اسکول: .....

نوٹ: سوالات پرچے میں دی گئی جگہ پر ہی حل کریں۔ اضافی کاپی ہرگز مہیا نہیں کی جائے گی۔ حصہ معروضی میں کاٹ کر یا مٹا کر لکھے گئے جوابات غلط تصور ہوں گے۔

کل نمبر	حاصل کردہ نمبر	گریڈ	نتیجہ	دستخط ممتحن
50				

{ حصہ معروضی }

☆ خالی جگہیں پر کریں۔ 5

- 1- ”مدینہ منورہ“ کا پرانا نام ..... تھا۔
- 2- بیعت عقبہ اولیٰ میں ..... اشخاص مسلمان ہوئے۔
- 3- حقوق العباد سے مراد ..... کے حقوق ہیں۔
- 4- رحمہ اللہ اور اس کے رسول صلی اللہ علیہ وآلہ وسلم کی ..... ہے۔
- 5- رحمہ اللہ کی کرنا ..... کی صفت ہے۔

☆ درست جواب پر (✓) لگائیں۔ 10

- 1- قبائیں آپ صلی اللہ علیہ وآلہ وسلم نے ..... قیام فرمایا۔  
(a) 3 دن (b) 10 دن (c) 14 دن
- 2- نبی کریم صلی اللہ علیہ وآلہ وسلم مدینہ منورہ میں ..... داخل ہوئے:  
(a) بدھ کے دن (b) جمعرات کے دن (c) جمعہ کے دن
- 3- حقوق العباد سے مراد حقوق ہیں:  
(a) اللہ کے (b) بندوں کے (c) صرف والدین کے
- 4- رحمہ اللہ اخلاقیات میں ایک بڑی ..... ہے۔  
(a) خامی (b) خوبی (c) اچھائی
- 5- حضرت فاطمہ الزہراء رضی اللہ عنہا کی قبر مبارک ہے:  
(a) جنت البقیع (b) جنت المعلیٰ (c) جنت الفردوس

☆ درست بیانات پر (✓) اور غلط بیانات پر (x) کا نشان لگائیں: 5


- 1- مکہ میں تیزی سے اسلام پھیلنے لگا۔
- 2- اسلام کی پہلی مسجد کا نام مسجد نبوی ہے۔
- 3- صبر کے معنی ارادہ کرنے کے ہیں۔
- 4- ابولہب نبی کریم صلی اللہ علیہ وآلہ وسلم کا چچا تھا۔
- 5- حضرت سیدہ فاطمہؓ نبی کریم صلی اللہ علیہ وآلہ وسلم کی لاڈلی بیٹی ہیں۔

نوٹ: مندرجہ ذیل میں سے کوئی سے پانچ سوالات کے جوابات لکھیں۔

سوال نمبر 1: مدینہ منورہ میں کون کون سے قبیلے آباد تھے؟

جواب:

سوال نمبر 2: حقوق العباد سے کیا مراد ہے؟

جواب:

سوال نمبر 3: ہمسایوں کے بارے میں رسول کریم صلی اللہ علیہ وآلہ وسلم نے کیا ارشاد فرمایا؟

جواب:

سوال نمبر 4: ”رحمدلی“ کسے کہتے ہیں؟

جواب:

سوال نمبر 5: نبی کریم صلی اللہ علیہ وآلہ وسلم نے رحمدلی کے بارے میں کیا فرمایا؟

جواب:

سوال نمبر 6: ہمیں ہر مشکل، پریشانی اور مصیبت میں کیا کرنا چاہیے؟

جواب:

سوال نمبر 7: حضرت ابو بکر صدیق ؓ کون تھے؟

جواب:



وقت 2:00 گھنٹے

امتحان: تھرڈ ٹرم (رائٹ وے سیریز)

## کلاس چہارم - پرچہ اردو

نام طالب علم: .....

نام اسکول: .....

نوٹ: سوالات پرچے میں دی گئی جگہ پر ہی حل کریں۔ اضافی کاپی ہرگز مہیا نہیں کی جائے گی۔ حصہ معروضی میں کاٹ کر یا مٹا کر لکھے گئے جوابات غلط تصور ہوں گے۔

کل نمبر	حاصل کردہ نمبر	گریڈ	نتیجہ	دستخط ممتحن
50				

{ حصہ معروضی }

5

☆ خالی جگہیں پر کریں۔

1۔ سیلاب اتنا زیادہ تھا کہ ہزاروں..... کو نقصان پہنچا۔

2۔ پاؤ گے..... ان کی نصیحتوں سے

3۔ اس..... کے سردار کا نام حاتم طائی تھا

4۔ پنجاب کے مسلمانوں پر ان کے بہت..... ہیں۔

5۔ شاہد کو..... کی چھٹیوں کا شدت سے انتظار تھا۔

10

☆ درست جواب پر (✓) لگائیں۔

1۔ عامر جس سکول میں پڑھتا تھا اس کی..... گر گئی تھی۔

(a) چھت (b) پیچھے والی دیوار (c) چار دیواری

2۔ ماں باپ کی روک ٹوک کس حق میں نعمت ہوتی ہے؟

(a) طلبا (b) لڑکوں (c) اولاد

3۔ حاتم طائی کس ملک میں رہتا تھا؟

(a) عرب (b) یمن (c) شام

4۔ ایبٹ آباد صوبہ..... کا ایک صحت افزا مقام ہے۔

(a) پنجاب (b) خیبر پختونخواہ (c) سندھ

5۔ شاہد..... کی شرارتیں دیکھ کر بہت خوش ہوا۔

(a) بندروں (b) بھیڑوں (c) ہرنوں

5

☆ مندرجہ ذیل الفاظ کے جملے بنائیں۔

1۔ اختیار .....

2۔ متاثر .....

3۔ شکست .....

4۔ آزادی .....

5۔ جوش .....

نوٹ: مندرجہ ذیل میں سے کوئی سے پانچ سوالات کے جوابات لکھیں۔

سوال نمبر 1: عامر کس جماعت کا طالب علم تھا اور اس کے گاؤں کا نام کیا تھا؟

جواب:

سوال نمبر 2: بچے علم و حکمت کیسے سیکھتے ہیں؟

جواب:

سوال نمبر 3: طے نامی قبیلہ کہاں رہتا تھا؟

جواب:

سوال نمبر 4: بادشاہ نے کیا پروگرام بنایا؟

جواب:

سوال نمبر 5: مولانا ظفر علی خاں کہاں پیدا ہوئے؟

جواب:

سوال نمبر 6: شاہد کی خوشی کی وجہ کیا تھی؟

جواب:

سوال نمبر 7: ایبٹ آباد کس صوبہ کا صحت افزا مقام ہے؟

جواب:

**ENGLISH - CLASS FOUR**

Name: \_\_\_\_\_ Roll No: \_\_\_\_\_

School: \_\_\_\_\_

نوٹ: سوالات پرچے میں دی گئی جگہ پر ہی حل کریں۔ اضافی کاپی ہرگز مہیا نہیں کی جائے گی۔ معروضی میں کاٹ کر یا مٹا کر لکھے گئے جوابات غلط تصور ہوں گے۔

Total Marks	Obtained Marks	Grade	Remarks	Examiner Sign
50				

{Objective Type}

**Q. No. 1: Fill in the blanks****5**

- Traveling in a desert is very\_\_\_\_\_.
- I chased it on my\_\_\_\_\_
- Never\_\_\_\_\_ someone by the way they look.
- The cactus stayed\_\_\_\_\_.
- The father gave the boy\_\_\_\_\_.

**Q. No. 2: Tick (✓) the correct answer.****10**

- The famous desert of Pakistan:
  - Cholistan
  - Thall
  - both a and b
- Traveling in\_\_\_\_\_is very difficult.
  - cities
  - deserts
  - both a and b
- \_\_\_\_\_carry the people's food and other items.
  - Camels
  - Carts
  - Cow
- Few areas of the earth where no rain falls for year called\_\_\_\_\_.
  - desert
  - oasis
  - city
- There are\_\_\_\_\_types of pollution.
  - two
  - three
  - four

**Q. No. 3: Make sentecens.****5**

- Oasis \_\_\_\_\_
- inhabit \_\_\_\_\_
- sandy \_\_\_\_\_
- sight \_\_\_\_\_
- whale \_\_\_\_\_

Q. No. 4: Answer the following questions. (any five)

15

1. Write the names of famous deserts of the world?
- 
2. What is desert?
- 
3. Where was the poetess set?
- 
4. When the rhyme turned to an icicle?
- 
5. What was the disappointment of the rose?
- 
6. How many nails, the boy driven in to the fence five day?
- 
7. How was the temper of the boy?
- 

Q. No. 5: Change into negative sentences.

5

1. Open your book.
2. Run quickly.
3. Cook the food.
4. Shut the window
5. Learn the lesson.

Q. No. 6: Write the comperative and superlative degrees of each positive degree. 10

long	<div></div>	<div></div>
near	<div></div>	<div></div>
old	<div></div>	<div></div>
poor	<div></div>	<div></div>
rich	<div></div>	<div></div>
sweat	<div></div>	<div></div>

**SOCIAL STUDIES - CLASS FOUR**

Name: \_\_\_\_\_ Roll No: \_\_\_\_\_

School: \_\_\_\_\_

نوٹ: سوالات پرچے میں دی گئی جگہ پر ہی حل کریں۔ اضافی کاپی ہرگز مہیا نہیں کی جائے گی۔ معروضی میں کاٹ کر یا مٹا کر لکھے گئے جوابات غلط تصور ہوں گے۔

Total Marks	Obtained Marks	Grade	Remarks	Examiner Sign
50				

{Objective Type}

**Q. No. 1: Fill in the blanks:****10**

- The Muslims believed in \_\_\_\_\_ and hated "Shirk".
- They have much respect and \_\_\_\_\_ for their religious values and traditions.
- Everyone should be treated as \_\_\_\_\_ before the law.
- Laws tell us about our rights and \_\_\_\_\_.
- \_\_\_\_\_ court is established on provincial level.

**Q. No. 2: Choose correct answer:****5**

- Before Pakistan who ruled over South Asia?  
(a) Hindus (b) British (c) Sikhs
- Rules and laws keep us \_\_\_\_\_.  
(a) in danger (b) safe (c) unsafe
- Being a citizen, we all have:  
(a) rights (b) duties (c) both a & b
- He hears the complaints of people:  
(a) Lawyers (b) Judge (c) Policeman
- On the national level, there is:  
(a) District Court (b) High court (c) Supreme Court

**Q. No. 3: Tick (✓) for correct and (×) for false statement:****5**

- The Hindus maintained their identity.
- Pakistan is an Islamic country.
- 5% population of Pakistan is Non-Muslim.
- Rules and Laws keep us safe.
- The people build airport, roads, dams, etc.


**Note: Answer the following question. (any five)**

**30**

1. Who ruled over South Asia before the creation of Pakistan?

---

---

---

2. What is the believe of the Muslims?

---

---

---

3. What is the official name of Pakistan?

---

---

---

4. What is a government?

---

---

---

5. Which things a government provide us?

---

---

---

6. What do law tell us?

---

---

---

7. Why does a society have laws?

---

---

---

**SCIENCE CLASS FOUR**

Name: \_\_\_\_\_ Roll No: \_\_\_\_\_

School: \_\_\_\_\_

نوٹ: سوالات پرچے میں دی گئی جگہ پر ہی حل کریں۔ اضافی کاپی ہرگز مہیا نہیں کی جائے گی۔ معروضی میں کاٹ کر یا مٹا کر لکھے گئے جوابات غلط تصور ہوں گے۔

Total Marks	Obtained Marks	Grade	Remarks	Examiner Sign
50				

{Objective Type}

**Q. No. 1: Fill in the blanks:****10**

- Solar system consisted on \_\_\_\_\_ planets.
- The form of energy that gives us sensation of heating \_\_\_\_\_.
- A quick backward and forward movement of an objects \_\_\_\_\_.
- The place where is no air \_\_\_\_\_.
- \_\_\_\_\_ is the third planet from the sun.

**Q. No. 2: Choose correct answer:****5**

- The flow of heat is from:
  - hot to cold
  - cold to hot
- Our sense of \_\_\_\_\_ tells us about hotness or coldness of an object:
  - sight
  - touch
- It is used to measure body temperature of humans and animals:
  - clinical thermometer
  - laboratory thermometer
- The boiling point of water is:
  - 0°C and 32°F
  - 100°C and 212°F
- The temperature at which water freeze is called:
  - freezing point
  - boiling point

**Q. No. 3: Tick (✓) for correct and (×) for false:****5**

- When we speak our voice comes from vocal cords.
- The vibrating strings do not make air vibrate.
- Sound travels faster through space.
- There are seven planets in our solar system.
- Leap year has 28 days in Febuary.


**Note: Answer the following questions. (any five)**

**30**

1. What do you mean by fuels? Give examples.

---

---

---

2. Write a note on temperature scales.

---

---

---

3. Explain about the types of thermometres.

---

---

---

4. What is vibration?

---

---

---

5. Discuss the sound needs medium to travel.

---

---

---

6. Explain movement of moon.

---

---

---

7. What do you know about the lunar eclipse?

---

---

---



**COMPUTER - CLASS FOUR**

Name: \_\_\_\_\_ Roll No: \_\_\_\_\_

School: \_\_\_\_\_

نوٹ: سوالات پرچے میں دی گئی جگہ پر ہی حل کریں۔ اضافی کاپی ہرگز مہیا نہیں کی جائے گی۔ معروضی میں کاٹ کر یا مٹا کر لکھے گئے جوابات غلط تصور ہوں گے۔

Total Marks	Obtained Marks	Grade	Remarks	Examiner Sign
50				

{Objective Type}
















**Q. No. 1: Fill in the blanks:****5**

- Windows XP is developed in \_\_\_\_\_.
- DOS stands for \_\_\_\_\_.
- MS word is part of the \_\_\_\_\_.
- Font is the style and design of \_\_\_\_\_.
- To control all activities within a computer system, \_\_\_\_\_ software is used.

**Q. No. 2: Encircle the correct answer:****10**

- Title bar shows the \_\_\_\_\_ of the file.  
(a) length (b) width (c) colour (d) file name
- \_\_\_\_\_ bar displays menus like: file, home, insert, etc.  
(a) menu (b) drop down (c) title (d) none
- The word document windows has \_\_\_\_\_ scroll bars.  
(a) four (b) three (c) two (d) none
- Computers cannot take \_\_\_\_\_ of their own space.  
(a) exercise (b) decisions (c) effort (d) none of these
- In publishing \_\_\_\_\_ are designed by a computer.  
(a) reports (b) books (c) news (d) painting

**Q. No. 3: Write the short keys of the following.****5**

Save	→		→	 + 
Copy	→		→	 + 
Paste	→		→	 + 
Cut	→		→	 + 
Print	→		→	 + 

**Note: Answer the following questions of any five:**

**30**

1. How can you start MS Word?

---

---

---

2. What do you mean by word processor?

---

---

---

3. Write steps to change the font style.

---

---

---

4. What is versatility?

---

---

---

5. Name three characteristics of computer.

---

---

---

6. List down the uses of a computer.

---

---

---

7. How can we use computer in education?

---

---

---

## کلاس پنجم - پرچہ اسلامیات

نام طالب علم: .....

نام اسکول: .....

نوٹ: سوالات پرچے میں دی گئی جگہ پر ہی حل کریں۔ اضافی کاپی ہرگز مہیا نہیں کی جائے گی۔ حصہ معروضی میں کاٹ کر یا مٹا کر لکھے گئے جوابات غلط تصور ہوں گے۔

کل نمبر	حاصل کردہ نمبر	گریڈ	نتیجہ	دستخط ممتحن
50				

{ حصہ معروضی }

☆ خالی جگہیں پر کریں۔ 5

- 1- کفار کی تعداد غزوہ احزاب میں ..... ہزار تک پہنچ گئی۔
- 2- وعدہ پورا نہ کرنا بھی ..... کی ایک صورت ہے۔
- 3- ..... کا مطلب ہے مشکل حالات میں صبر سے کام لینا۔
- 4- اسلامی ..... کا تقاضا ہے کہ سچے دل سے ایک دوسرے کی بہتری کا سوچیں۔
- 5- اللہ تعالیٰ ..... اور ..... کرنے والے کو پسند نہیں کرتا۔

☆ درست جواب پر (✓) لگائیں۔ 10

- 1- خندق کھودنے کا کام مکمل ہوا:
  - (a) چھ دن میں
  - (b) بارہ دن میں
  - (c) اٹھارہ دن میں
- 2- وعدہ خلافی کو اسلام میں کہا گیا ہے:
  - (a) اخلاقی جرم
  - (b) سیاسی جرم
  - (c) سماجی جرم
- 3- جو عہد کی پابندی نہیں کرتا اس کا نہیں ہے کوئی:
  - (a) گھر
  - (b) دین
  - (c) ملک
- 4- زندگی میں کامیابی کے لیے ضروری ہے:
  - (a) بردباری
  - (b) غصہ
  - (c) بے صبری
- 5- اسلامی اخوت سے مراد اسلام کے حوالے سے ہے:
  - (a) بھائی چارہ
  - (b) رشتہ داری
  - (c) دوستی

☆ درج ذیل الفاظ کو جملوں میں استعمال کریں۔ 5

- 1- امن وامان .....
- 2- وفہ .....
- 3- منصوبہ .....
- 4- دفاع .....
- 5- ٹولیاں .....

نوٹ: مندرجہ ذیل میں سے کوئی سے پانچ سوالات کے جوابات لکھیں۔

سوال نمبر 1: غزوہ احزاب کو غزوہ احزاب کیوں کہا جاتا ہے؟

جواب:

سوال نمبر 2: کتنے دن میں خندق کا کام مکمل ہوا؟

جواب:

سوال نمبر 3: کلمہ پڑھ کر ہم کون سا وعدہ کرتے ہیں؟

جواب:

سوال نمبر 4: بردباری کا مطلب کیا ہے؟

جواب:

سوال نمبر 5: کفایت شعاری سے کیا مراد ہے؟

جواب:

سوال نمبر 6: حضرت عیسیٰ علیہ السلام کی نانی جان نے کیا منت مانی تھی؟

جواب:

سوال نمبر 7: حضرت ابو بکر صدیق رضی اللہ عنہ کیسے کردار کے مالک تھے؟

جواب:

## کلاس پنجم - پرچہ اردو

نام طالب علم: .....

نام اسکول: .....

نوٹ: سوالات پرچے میں دی گئی جگہ پر ہی حل کریں۔ اضافی کاپی ہرگز مہیا نہیں کی جائے گی۔ حصہ معروضی میں کاٹ کر یا مٹا کر لکھے گئے جوابات غلط تصور ہوں گے۔

کل نمبر	حاصل کردہ نمبر	گریڈ	نتیجہ	دستخط ممتحن
50				

{ حصہ معروضی }

☆ خالی جگہیں پر کریں۔ 5

- 1- نیک بناؤں گا.....
  - 2- ککڑیاں بہت پسند کرتی ہیں۔
  - 3- یہ مجلس..... کہلاتی تھی۔
  - 4- بہت پہلے کی بات ہے کہ ایک..... قوم میں ایک بچہ پیدا ہوا۔
  - 5- جب بکری نے اس کے گھر پہنچ کر دیکھا تو اس کا ایک..... گم تھا۔
- ☆ درست جواب پر (✓) لگائیں۔ 10

- 1- ککڑیاں آج سے..... سو سال پہلے بھی شوق سے کھائی جاتی تھیں۔
  - 2- برابر والی سلطنت کا بادشاہ تھا بہت:
  - 3- نوجوان اپنے لشکر کو لے کر پرچم لہراتا ہوا چلا گیا:
  - 4- بکری کے بچے تھے:
  - 5- سیدھی سادھی بکری باتوں میں آگئی:
- (a) 13 (b) 14 (c) 15
- (a) رحم دل (b) خوب صورت (c) ظالم
- (a) چین تک (b) عراق تک (c) ایران تک
- (a) دو (b) کئی (c) تین
- (a) لومڑی کی (b) بندر کی (c) بھیڑیے کی

☆ درج ذیل الفاظ کو جملوں میں استعمال کریں۔ 5

- 1- قوم.....
- 2- لشکر.....
- 3- خراج.....
- 4- خاموشی.....
- 5- راضی.....

نوٹ: مندرجہ ذیل میں سے کوئی سے پانچ سوالات کے جوابات لکھیں۔

سوال نمبر 1: لڑکا کتنی عمر کا ہے؟

جواب:

سوال نمبر 2: چھوٹی بچی کہاں رہتی تھی؟

جواب:

سوال نمبر 3: بزرگ کون تھے اور انھوں نے بچی کے والد کی مدد کیسے کی؟

جواب:

سوال نمبر 4: بچہ کس قوم میں پیدا ہوا تھا؟

جواب:

سوال نمبر 5: بکری کہاں رہتی تھی؟

جواب:

سوال نمبر 6: دھرتی کو گل زار کیسے بنایا جاسکتا ہے؟

جواب:

سوال نمبر 7: مسلمان کی کیا تعریف بیان کی گئی ہے؟

جواب:

**ENGLISH - CLASS FIVE**

Name: \_\_\_\_\_ Roll No: \_\_\_\_\_

School: \_\_\_\_\_

نوٹ: سوالات پرچے میں دی گئی جگہ پر ہی حل کریں۔ اضافی کاپی ہرگز مہیا نہیں کی جائے گی۔ معروضی میں کاٹ کر یا مٹا کر لکھے گئے جوابات غلط تصور ہوں گے۔

Total Marks	Obtained Marks	Grade	Remarks	Examiner Sign
50				

{Objective Type}

**Q. No. 1: Fill in the blanks****5**

- The crow was \_\_\_\_\_ .
- Water in the pitcher rose \_\_\_\_\_.
- I \_\_\_\_\_ up at half past five.
- We have \_\_\_\_\_ of time their.
- All right but be \_\_\_\_\_ please.

**Q. No. 2: Complete the following words.****10**

- h \_\_\_\_ ur
- min \_\_\_\_ tes
- qu \_\_\_\_ rter
- wa \_\_\_\_ ch
- sec \_\_\_\_ nd
- simil \_\_\_\_ rly
- sm \_\_\_\_ ll
- twe \_\_\_\_ ve
- el \_\_\_\_ ven
- b \_\_\_\_ tween

**Q. No. 3: Match the list A with the list B.****5**

Have you packed
Because I know importance
Don't
We don't have a single minute
Then I prepared

worry.
to loose.
the breakfast.
of time.
you are?

**Q. No. 4: Use following words in sentences.****5**

- thirsty \_\_\_\_\_
- wise \_\_\_\_\_
- wise \_\_\_\_\_
- fast \_\_\_\_\_
- low \_\_\_\_\_

**Q. No. 5: Answer the following questions. (any five)**

**15**

1.

Why did the crow fly here and there?
2.

Where was the pitcher?
3.

What lesson did you learn from "A thirsty crow" story?
4.

The small hand is at "2" and the big one is at "12". What time is it now?
5.

How many minutes are there in hour?
6.

What time/ when did Komal get up?
7.

What does a quarter mean?

**Q. No. 6: Change the following sentences into future indefinite tense.**

**5**

1.

The teacher teaches us.
2.

She washed clothes.
3.

My sister eats an apple.
4.

They played cricket.
5.

We read books.

**Q. No. 7: Make five sentences with the use of "a little".**

**5**



**SOCIAL STUDIES-CLASS FIVE**

Name: \_\_\_\_\_ Roll No: \_\_\_\_\_

School: \_\_\_\_\_

نوٹ: سوالات پرچے میں دی گئی جگہ پر ہی حل کریں۔ اضافی کاپی ہرگز مہیا نہیں کی جائے گی۔ معروضی میں کاٹ کر یا مٹا کر لکھے گئے ہونے  
جوابات غلط تصور ہوں گے۔

Total Marks	Obtained Marks	Grade	Remarks	Examiner Sign
50				

{Objective Type}

**Q. No. 1: Fill in the blanks:****10**

- The \_\_\_\_\_ spins like a top on its own axis.
- The earth rotates from \_\_\_\_\_ to \_\_\_\_\_.
- Mars has \_\_\_\_\_ and Neptune has \_\_\_\_\_ moons.
- The Sun gives us \_\_\_\_\_ and \_\_\_\_\_.
- \_\_\_\_\_ is the largest planet.

**Q. No. 2: Tick (✓) for correct and (×) for false statement:****5**

- Neptune has 13 moon.
- The sun is a small star.
- The stars do not shine during the day.
- Rotation means moving on a fixed path.
- Our solar system has two suns.

☐  
☐  
☐  
☐  
☐
**Q. No. 3: Name six things that the soil contains.****5**

- \_\_\_\_\_
- \_\_\_\_\_
- \_\_\_\_\_
- \_\_\_\_\_
- \_\_\_\_\_

**Note: Answer the following question. (any five)**

**30**

1.     What is soil made up of?

---

---

---

2.     When loam is formed?

---

---

---

3.     What are satellites?

---

---

---

4.     How can we say that the Sun is also a star?

---

---

---

5.     Define planets.

---

---

---

6.     What is a solar system?

---

---

---

7.     How do the planets in shapes?

---

---

---

## SCIENCE - CLASS FIVE

Name: \_\_\_\_\_ Roll No: \_\_\_\_\_

School: \_\_\_\_\_

نوٹ: سوالات پرچے میں دی گئی جگہ پر ہی حل کریں۔ اضافی کاپی ہرگز مہیا نہیں کی جائے گی۔ معروضی میں کاٹ کر یا مٹا کر لکھے گئے جوابات غلط تصور ہوں گے۔

Total Marks	Obtained Marks	Grade	Remarks	Examiner Sign
50				

{Objective Type}

**Q. No. 1: Fill in the blanks:****10**

- The \_\_\_\_\_ spins like a top on its own axis.
- The earth rotates from \_\_\_\_\_ to \_\_\_\_\_.
- Mars and Neptune has \_\_\_\_\_ moons.
- The Sun gives us \_\_\_\_\_ and \_\_\_\_\_.
- \_\_\_\_\_ is the largest planet.

**Q. No. 2: Tick (✓) for correct and (×) for false statement:****5**

- There are six sense organs.
- We need air to breathe.
- The stars do not shine during the day.
- Rotation means moving on a fix path.
- Our solar system has two suns.


**Q. No. 3: Name six things that the soil contains.****5**

- \_\_\_\_\_
- \_\_\_\_\_
- \_\_\_\_\_
- \_\_\_\_\_
- \_\_\_\_\_

**Note: Answer the following question. (any five)**

**30**

1.     What is soil made up of?

---

---

---

2.     When loam is formed?

---

---

---

3.     What are satellites?

---

---

---

4.     How can we say that the Sun is also a start?

---

---

---

5.     Define planets.

---

---

---

6.     What is a solar system?

---

---

---

7.     How do the planets in shapes?

---

---

---

**COMPUTER - CLASS FIVE**

Name: \_\_\_\_\_ Roll No: \_\_\_\_\_

School: \_\_\_\_\_

نوٹ: سوالات پرچے میں دی گئی جگہ پر ہی حل کریں۔ اضافی کاپی ہرگز مہیا نہیں کی جائے گی۔ معروضی میں کاٹ کر یا مٹا کر لکھے گئے جوابات غلط تصور ہوں گے۔

Total Marks	Obtained Marks	Grade	Remarks	Examiner Sign
50				

{Objective Type}

**Q. No. 1: Encircle the correct answer:****10**

- Paint is used for \_\_\_\_\_.  
(a) Text (b) drawing (c) words
- Title bar is also called \_\_\_\_\_.  
(a) quick access tool bar (b) status bar (c) menu bar
- MS-Word is \_\_\_\_\_ processing software.  
(a) word (b) text (c) picture
- Insert option is present in \_\_\_\_\_.  
(a) title bar (b) menu bar (c) tool bar menu
- Working area is available in \_\_\_\_\_ size.  
(a) A2 (b) A1 (c) A4

**Q. No. 3: Write an essay on "My Self" by using MS-Word.****10**


---

---

---

---

---

---

---

---

---

---

**Note: Answer the following questions of any five:**

**30**

1. What is paint?

---

---

---

2. Write a note on menu bar along with paint button.

---

---

---

3. What is status bar?

---

---

---

4. What is MS-Word?

---

---

---

5. Write down steps of installing CD.

---

---

---

6. What does title bar show?

---

---

---

7. How does menu bar tool work?

---

---

---

**MATHEMATICS - CLASS FIVE**

Name: \_\_\_\_\_ Roll No: \_\_\_\_\_

School: \_\_\_\_\_

نوٹ: سوالات پرچے میں دی گئی جگہ پر ہی حل کریں۔ اضافی کاپی ہرگز مہیا نہیں کی جائے گی۔ معروضی میں کاٹ کر یا مٹا کر لکھے گئے ہوئے جوابات غلط تصور ہوں گے۔

Total Marks	Obtained Marks	Grade	Remarks	Examiner Sign
50				

{Objective Type}

**Q. No. 1: Fill in the blanks.****5**

- The length of a line segment is \_\_\_\_\_.
- The length of a line is \_\_\_\_\_.
- The lines which do not intersect are \_\_\_\_\_ line.
- Two or more lines passing through common point are \_\_\_\_\_.
- Perpendicular lines make an angle of \_\_\_\_\_.

**Q. No. 2: Classify the following angles:****10**

- |                        |                        |                       |
|------------------------|------------------------|-----------------------|
| i. $75^\circ$ _____    | ii. $125^\circ$ _____  | ii. $180^\circ$ _____ |
| iv. $210^\circ$ _____  | v. $200^\circ$ _____   | vi. $164^\circ$ _____ |
| vii. $225^\circ$ _____ | viii. $90^\circ$ _____ | ix. $360^\circ$ _____ |
| x. $59^\circ$ _____    |                        |                       |

**Q. No. 3: Construct:****5**

- Construct a  $\triangle PQR$  in which  $m\overline{PQ} = 3\text{cm}$ ,  $m\angle P = 110^\circ$  and  $m\angle Q = 40^\circ$ .
- Construct a  $\triangle XYZ$  in which  $m\overline{XY} = 5\text{cm}$ ,  $m\angle Y = 100^\circ$ ,  $m\angle X = 40^\circ$ .

**Q. No. 4: Find the sides of a square whose perimeter is.****5**

- |             |          |              |
|-------------|----------|--------------|
| i. 1600 m   | ii. 560  | iii. 18.80 m |
| iv. 19.76 m | v. 400 m |              |

**Q. No. 5: A square courtyard is 8m in length. Find the length of wire required to fence around it.** **5**

**Q. No. 6: Find the area of the rectangular having the length and breadth as follow. 10**

i.      length = 3.5, breadth = 1.5 cm

ii.     length = 6, breadth = 75 cm

iii.    length = 6, breadth = 3 cm

iv.     length = 8, breadth = 80 cm

**Q. No. 7: The measurement of all four sides of a rectangular table cloth is 214cm. If its length is 65m. Find the area of table cloth.** **5**

**Q. No. 8: The following table shows the family budget of Mr. Mahboob.** **5**

Items	Food	Clothing	Education	House rent	Other Expense	Saving
Cost (In Rs.)	3500	1000	2000	1500	500	2500

Represent the above information by a bar graph.